



**Wojewódzki Konkurs Przedmiotowy
z Historii
dla uczniów gimnazjów
województwa śląskiego
w roku szkolnym 2010/2011**



KOD UCZNIWA

--	--	--

Etap: wojewódzki
Data: 2.03.2011 r.
Czas pracy: 90 minut

Informacje dla ucznia:

1. Na stronie tytułowej arkusza, w wyznaczonym miejscu, wpisz swój kod ustalony przez komisję.
2. Sprawdź, czy arkusz konkursowy zawiera 7 stron i 17 zadań.
3. Czytaj uważnie wszystkie teksty i zadania.
4. Rozwiązania zapisuj długopisem lub piórem. Nie używaj korektora.
5. W zadaniach zamkniętych podane są cztery lub trzy odpowiedzi: A.B.C.D. lub A.B.C. Wybierz tylko jedną odpowiedź i zaznacz zgodnie z poleceniem.
6. Staraj się nie popełniać błędów przy zaznaczaniu odpowiedzi, ale jeśli się pomylisz, błędne zaznaczenie otocz kółkiem **X** i zaznacz inną odpowiedź znakiem **X**.
7. Zadania np. z luką, na dobieranie lub innego typu, wykonuj zgodnie z poleceniem.
8. Rozwiązania zadań otwartych zapisz czytelnie w wyznaczonych miejscach. Pomyłki przekreślaj.

liczba punktów możliwych do uzyskania: 60
liczba punktów umożliwiająca uzyskanie tytułu laureata: 51

Nr zadania	1	2	3	4	5	6	7	8	9	10	11	12	13	14	15	16	17	razem
Liczba punktów możliwych do zdobycia	3	3	3	6	3	4	5	5	3	3	4	2	2	2	4	5	3	60
Liczba punktów uzyskana przez uczestnika																		

Podpisy przewodniczącego i członków komisji:

1. Przewodniczący -
2. Członek -
3. Członek -

Zadanie 1 (0 – 3)

Nazwij obszary, na które podzielono ziemie polskie podczas kongresu wiedeńskiego. Wpisz ich nazwy obok oznaczeń literowych.



Ziemie polskie po kongresie wiedeńskim

- A.-.....
 B.-.....
 C.-.....

Zadanie 2 (0 - 3)

Zakwalifikuj podane zdania jako prawdę lub fałsz. Wpisz, w wykropkowanym miejscu, odpowiednio: *Prawda* lub *Falsz*.

- A. *Na Kongresie Wiedeńskim zniesiono zasadę legitymizmu*.....
 B. *W wyniku Wiosny Ludów we Francji utworzono republikę*.....
 C. *Włodzimierz Lenin stanął na czele rewolucji lutowej*.....

Zadanie 3 (0 - 3)

Przyjrzyj się zamieszczonym herbom i wykonaj polecenia.



A



B



C



D

- A. Zakreśl oznaczenie literowe herbu Królestwa Polskiego.
 B. Podaj i wyjaśnij dwa symbole widoczne na herbie, uzasadniające Twój wybór.
 1) symbol:.....wyjaśnienie:.....
 2) symbol:.....wyjaśnienie:.....

Zadanie 4 (0 - 6)

Przeczytaj tekst źródłowy i wykonaj polecenia.

Art.1

Królestwo Polskie jest na zawsze połączone z Cesarstwem Rosyjskim.(...)

Art.3

Korona Królestwa Polskiego jest dziedziczna w osobie naszej i naszych potomków,dziedziców i następców podług porządku następstwa ustanowionego dla tronu cesarsko-rosyjskiego.(...)

Art. 5

Król w przypadku swojej nieprzytomności mianuje namiestnika, który powinien mieszkać w Królestwie. Namiestnik podług woli odwołany być może. (...)

Art.8

Stosunki polityki zewnętrznej naszego Cesarstwa będą wspólne naszemu Królestwu Polskiemu.

Art.9

Sam tylko panujący będzie miał prawo oznaczyć uczestnictwo Królestwa Polskiego do wojen przez Rosję toczonych, jako też do traktatów pokoju i handlowych, które by to mocarstwo zawierać mogło.(...)

T. Maresz, K. Juszczyk, Historia w tekstach źródłowych, T.2, s.123

A. Podkreśl wystawcę tego dokumentu.

- 1) Księżę A.J. Czartoryski
- 2) Car Aleksander I
- 3) Car Mikołaj I
- 4) Car Aleksander II

B. Podkreśl rok nadania konstytucji.

- 1) 1831
- 2) 1846
- 3) 1815
- 4) 1848

C. Nazwij związek łączący królestwo Polskie z Rosją.

.....

D. Oceń, czy Królestwo polskie było państwem suwerennym. Uzasadnij swoje stanowisko, podając dwa argumenty.

Ocena:.....

Argumenty: 1).....

2).....

Zadanie 5 (0 – 3)

Przeczytaj zamieszczone krótkie charakterystyki programów ugrupowań Wielkiej Emigracji. Uzupełnij tabelę wpisując nazwy tych ugrupowań.

Program	Ugrupowanie
<i>Drogą do niepodległości jest powstanie całego narodu. Należy znieść pańszczyznę i uwłaszczyć chłopów. Odrodzona niepodległa Polska będzie republiką demokratyczną.</i>	
<i>Połączenie walki o niepodległość z rewolucją społeczną. Powstanie Polski bez własności prywatnej i warstw uprzywilejowanych.</i>	
<i>Odbudowa Polski jako monarchii, w przedzoborowych granicach z pomocą mocarstw zachodnich. Ustrój oparty o konstytucję 3 maja.</i>	

Zadanie 6 (0 - 4)

Przyporządkuj podanym postaciom informacje na ich temat. Wpisz odpowiednią cyfrę w wykropkowanym miejscu.

- A. Roman Dmowski
- B. Feliks Dzierżyński
- C. Józef Piłsudski
- D. Otto von Bismarck

1. Zwolennik orientacji „proaustriackiej” podczas I wojny
2. Stał na czele ruchu narodowego, tzw. endecji
3. Inicjator „Walki o kulturę”
4. Dowodził „Błękitną Armia”
5. Kierował Nadzwyczajną Komisją do Walki z Sabotażem

A-..... B-..... C-..... D-.....

Zadanie 7 (0 - 5)

Przeczytaj tekst źródłowy i odpowiedz na pytania.

Manifest Rządu Narodowego 22 lutego 1846r.

Do Narodu Polskiego:

*Polacy! Godzina powstania wybiła – cała rozszarpana Polska dźwiga się i zrasta – powstał już nasi bracia w Księstwie Poznańskim, w Polsce Kongresowej, w Litwie i na Rusi biją się z wrogiem(...)wywalczymy sobie skład społeczeństwa, w którym każdy podług zasług i zdolności z dóbr ziemskich będzie mógł użytkować, a przywilej żaden i pod żadnym kształtem mieć nie będzie miejsca, w którym każdy Polak znajdzie zabezpieczenie dla siebie, żony i dzieci swoich, w którym upośledzony od przyrodzenia na ciele lub na duszy, znajdzie bez upokorzenia niechybną pomoc całego społeczeństwa, w którym **ziemia, dzisiaj przez włościan warunkowo tylko posiadana, stanie się bezwarunkową ich własnością, ustaną czynsze, pańszczyzny i wszelkie tym podobne należności bez żadnego wynagrodzenia, a poświęcenie się sprawie narodowej z bronią w ręku będzie wynagrodzone ziemią z dóbr narodowych.***

Polacy! Nie znamy odtąd między sobą żadnej różnicy, jesteśmy odtąd braćmi, synami jednej matki Ojczyzny, jednego ojca Boga na niebie!(...)

T. Maresz, K. Juszczyk, Historia w tekstach źródłowych, T.2, s.146

A. Podaj termin określający deklarowaną zmianę wytłuszczoną w tekście.

.....

B. Wypisz dwie inne zmiany deklarowane przez autorów manifestu:

1.....

2.....

C. Wskaż okoliczności wydania manifestu.

.....

D. Określ cel jego wydania.

.....

Zadanie 8 (0 – 6)

Uzupełnij tabelę dotyczącą polskich powstań zbrojnych.

Nazwa powstania	data	przyczyny	skutki
<i>Powstanie styczniowe</i>			
<i>Powstanie listopadowe</i>			

A. Wpisz daty powstań.**B. Wpisz odpowiednie oznaczenia cyfrowe 2 przyczyn i 2 skutków powstań.****Przyczyny:**


- 1) Łamanie konstytucji przez cara
- 2) Branka
- 3) Działalność Czerwonych
- 4) Rewolucja w Belgii
- 5) Działalność Hotelu Lambert

Skutki:

- 1) Odzyskanie autonomii
- 2) Wielka Emigracja
- 3) Statut Organiczny
- 4) Nasiloną rusyfikacją
- 5) Uwłaszczenie chłopów

Zadanie 9 (0 - 3)

Przyjrzyj się zamieszczonej ilustracji i wykonaj polecenia.



Obrady parlamentu frankfurckiego

A. Nazwij wydarzenie, podczas którego zwołano parlament oraz podaj ich datę.

Wydarzenie:.....Data:.....

B. Wyjaśnij, w jakim celu zwołano parlament frankfurcki.

.....

Zadanie 10 (0 - 3)

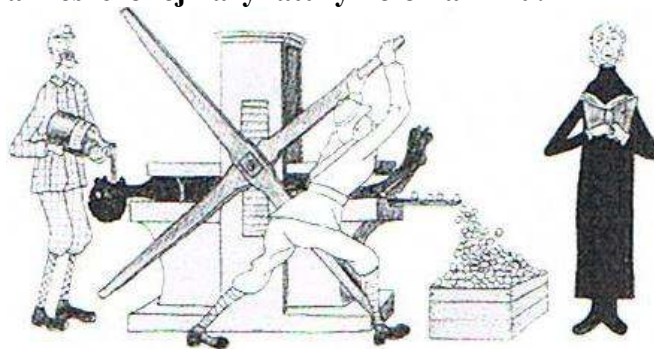
Przyporządkuj podanym opisom odpowiednie ideologie. Wpisz ich nazwy w tabeli.

Opis	Nazwa ideologii
<i>Zniesienie wszelkiej własności prywatnej oraz postulowanie budowy społeczeństwa bezklasowego, w którym podział dóbr będzie odbywał się według potrzeb.</i>	
<i>Ograniczenie roli państwa do minimum, postulowanie nieskrępowanej działalności obywateli na polu gospodarczym i politycznym.</i>	
<i>Przywiązanie do tradycyjnego ładu społecznego, postulowanie dostosowania koniecznych reform do istniejącego systemu.</i>	

Socjalizm, konserwatyzm, komunizm, liberalizm, nacjonalizm

Zadanie 14 (0 – 2)

Dokonaj interpretacji zamieszczonej karykatury kolonializmu.



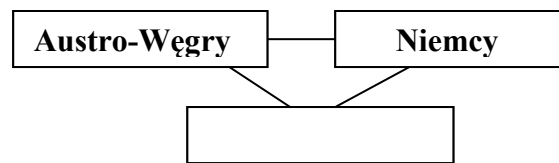
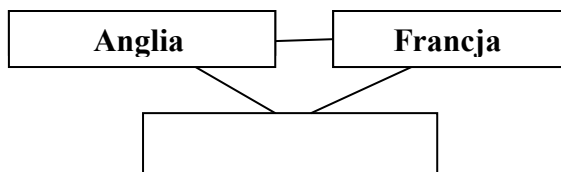
.....

Zadanie 15 (0 - 4)

Uzupełnij schematy dotyczące bloków utworzonych przed I wojną światową.

A. Wpisz brakujące nazwy państw w obu blokach.

B. Nazwij powstałe bloki.



.....
 nazwa bloku

.....
 nazwa bloku

Zadanie 16 (0-5)

Uzupełnij tekst dotyczący I wojny światowej.

W..... rozpoczęła się I wojna światowa. Atak wojsk niemieckich na Francję został
 (miesiąc,rok)
 zatrzymany w bitwie..... Równocześnie rozpoczęły się działania na froncie
 (miejsce bitwy)
 wschodnim. W 1916r.Niemcy zaatakowali francuską twierdzę.....
 (nazwa twierdzy)

Wdo wojny przystąpiły Stany Zjednoczone.
 (rok)

..... wojska niemieckie skapitulowały w Campiegne pod Paryżem.
 (data- dzień, miesiąc, rok)

Zadanie 17 (0-3)

Połącz w pary wydarzenie i jego skutek. Wpisz właściwą cyfrę w tabeli.

Wydarzenie /zjawisko	Skutek
germanizacja	
Uprzemysłowienie	
Powstanie Austro –Węgier	

1. Powstanie Manchester, Łodzi
2. Powstanie Cesarskiego Uniwersytetu Warszawskiego
3. Strajk we Wrześni
4. Autonomia Galicji