



Centralna Komisja Egzaminacyjna

Arkusz zawiera informacje prawnie chronione do momentu rozpoczęcia egzaminu.

Układ graficzny © CKE 2010

### WPISUJE ZDAJĄCY

KOD

--	--	--

PESEL

--	--	--	--	--	--	--	--	--	--

*Miejsce  
na naklejkę  
z kodem*

## EGZAMIN MATURALNY Z BIOLOGII

### POZIOM PODSTAWOWY

**MAJ 2012**

#### Instrukcja dla zdającego

1. Sprawdź, czy arkusz egzaminacyjny zawiera 13 stron (zadania 1 – 30). Ewentualny brak zgłoś przewodniczącemu zespołu nadzorującego egzamin.
2. Odpowiedzi zapisz w miejscu na to przeznaczonym przy każdym zadaniu.
3. Pisz czytelnie. Używaj długopisu/pióra tylko z czarnym tuszem/atramentem.
4. Nie używaj korektora, a błędne zapisy wyraźnie przekreśl.
5. Pamiętaj, że zapisy w brudnopisie nie będą oceniane.
6. Podczas egzaminu możesz korzystać z linijki.
7. Na tej stronie oraz na karcie odpowiedzi wpisz swój numer PESEL i przyklej naklejkę z kodem.
8. Nie wpisuj żadnych znaków w części przeznaczonej dla egzaminatora.

**Czas pracy:  
120 minut**

**Liczba punktów  
do uzyskania: 50**



MBI-P1\_1P-122

**Zadanie 1. (2 pkt)**

Nabłonek migawkowy, nabłonek rzęskowy lub nabłonek orzęsiony to różne określenia tego samego rodzaju nabłonka, którego komórki wyposażone są w rzęski ułatwiające transport substancji po powierzchni nabłonka.

**Wpisz do tabeli nazwy układów w organizmie człowieka, w których występuje nabłonek migawkowy, oraz podaj rolę tego rodzaju nabłonka w każdym z nich.**

Nazwa układu	Rola nabłonka migawkowego w tym układzie
1.	
2.	

**Zadanie 2. (2 pkt)**

Skóra człowieka składa się z wielowarstwowego naskórka i skóry właściwej. W najgłębiej położonej żywej warstwie naskórka – warstwie podstawnej – nieustannie powstają nowe komórki, które podczas stopniowego przemieszczania się ku powierzchni skóry ulegają keratyzacji (rogowaceniu). Tworzą one na powierzchni skóry złuszczącą się warstwę martwych komórek naskórka.

**a) Na podstawie powyższego tekstu podaj cechę żywych komórek warstwy podstawnej naskórka, która zapewnia jego odtwarzanie się.**

.....

**b) Podaj znaczenie warstwy zrogowaciałych komórek naskórka dla funkcji ochronnej skóry w organizmie człowieka.**

.....

.....

**Zadanie 3. (1 pkt)**

**Spośród poniższych zdań, dotyczących budowy układu ruchu człowieka, zaznacz dwa zdania nieprawdziwe.**

- A. Kości połączone są ze sobą w sposób ruchomy za pomocą stawów lub w sposób ścisły, np. za pomocą więzozrostów.
- B. Ściągane są zbudowane z tkanki łącznej włóknistej i umożliwiają przymocowanie mięśni do kości.
- C. Powierzchnie stawowe nasadowych części kości długich są zbudowane z tkanki kostnej.
- D. Mięśnie szkieletowe zbudowane są z włókien mięśniowych, a te składają się z miofibryli.
- E. Częścią bierną układu ruchu są mięśnie szkieletowe, a częścią czynną są kości.

**Zadanie 4. (1 pkt)**

Jedną ze swoistych cech człowieka jest szeroka i krótka miednica, która stanowi przystosowanie układu ruchu do poruszania się na dwóch kończynach w postawie wyprostowanej.

**Podaj inną niż wymieniona w tekście, swoistą cechę budowy szkieletu człowieka, która odróżnia go od innych naczelnych, i związana jest bezpośrednio z dwunożnym chodem.**

.....



**Zadanie 7. (3 pkt)**

Tętno (puls) odpowiada częstotliwości skurczów serca. Obserwacja tętna jest ważna w ocenie funkcjonowania układu krążenia.

a) **Podaj, w którym miejscu ciała, i w jaki sposób można dokonać pomiaru własnego tętna.**

Miejsce pomiaru .....

Sposób pomiaru .....

b) **Zaplanuj sposób przeprowadzenia obserwacji, która pozwoli wykazać, że wysiłek fizyczny ma wpływ na częstotliwość skurczów serca.**

**Zadanie 8. (1 pkt)**

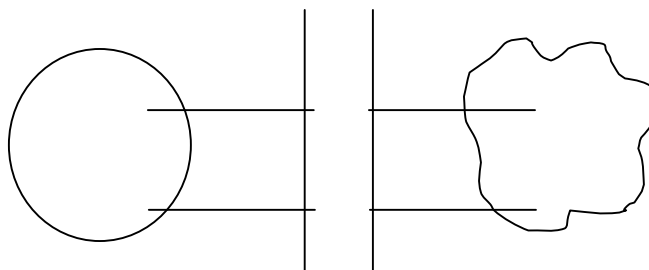
Oceń prawdziwość poniższych informacji dotyczących leukocytów. Wpisz obok każdego zdania literę P, jeśli zdanie jest prawdziwe, lub literę F, jeśli zdanie jest fałszywe.

		P/F
1.	Leukocyty są wyspecjalizowane w obronie organizmu przed drobnoustrojami, dlatego wszystkie są tak samo zbudowane.	
2.	Tylko makrofagi mają zdolność do fagocytozy bakterii oraz do przemieszczania się między komórkami ciała.	
3.	Limfocyty B odpowiedzialne są za odporność humoralną warunkowaną przez przeciwciała.	

**Zadanie 9. (1 pkt)**

Z powietrza wciągniętego do wnętrza pęcherzyków płucnych tlen przechodzi do naczyń włosowatych. Jest on dalej transportowany przez krew i za pośrednictwem płynu tkankowego dociera do komórek. Z komórek ciała pobierany jest dwutlenek węgla, który wraz z krwią transportowany jest do płuc. Tam z naczyń włosowatych przechodzi do wnętrza pęcherzyków płucnych, skąd usuwany jest na zewnątrz.

Korzystając z powyższego opisu, uzupełnij schemat przemieszczania się gazów oddechowych między pęcherzykami płucnymi a komórkami organizmu. Oznacz kierunki (dorysuj groty wszystkim strzałkom) oraz wpisz nad strzałkami odpowiednie nazwy gazów.



pęcherzyk płuczny    naczynie krwionośne    komórka organizmu

**Zadanie 10. (1 pkt)**

Płuca człowieka są parzystymi, pęcherzykowatymi narządami o płatowej budowie.

Podaj znaczenie pęcherzykowej budowy płuc dla efektywności wymiany gazowej.

.....

.....

**Zadanie 11. (2 pkt)**

Zbadano częstość występowania grup krwi w całej populacji ludzkiej na wyspie liczącej 1000 mieszkańców. Stwierdzono występowanie grup krwi: A – 359 osób, B – 351 osób oraz AB – 290 osób. U nikogo natomiast nie stwierdzono grupy krwi 0.

Na podstawie powyższych informacji uzupełnij tabelę oraz przedstaw na diagramie słupkowym częstość występowania badanych grup krwi wśród mieszkańców tej wyspy (z dokładnością do 1%).

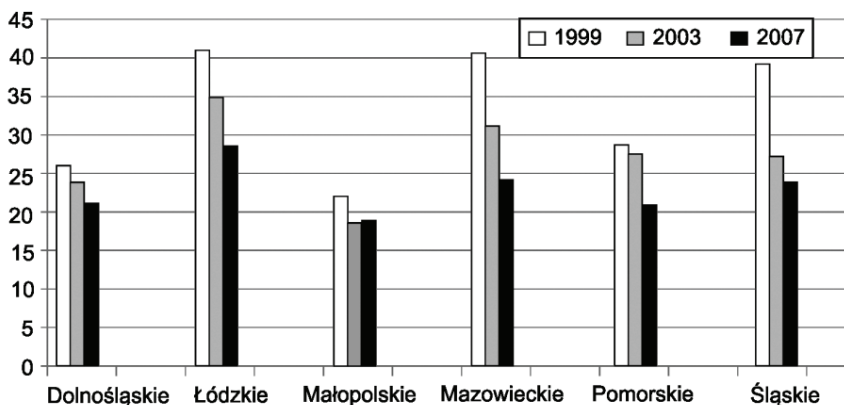
Grupa krwi	Liczba osób	Częstość występowania grupy krwi (w procentach)
A	359	36%
B		
AB		
0	0	0%

Wypełnia egzaminator	Nr zadania	7a)	7b)	8.	9.	10.	11.
	Maks. liczba pkt	2	1	1	1	1	2
	Uzyskana liczba pkt						

**Zadanie 12. (2 pkt)**

W Polsce od 1955 roku szczepienia przeciwko gruźlicy (BCG) są obowiązkowe, a od 2006 roku szczepieniu podlegają noworodki już w pierwszej dobie życia.

Na diagramie przedstawiono zapadalność na gruźlicę w kilku województwach w Polsce w latach: 1999, 2003 i 2007, którą wyrażono liczbą zachorowań na 100 tys. ludności.



Na podstawie: *Sytuacja zdrowotna ludności Polski*, pod red. B. Wojtyniak, P. Goryński, Narodowy Instytut Zdrowia Publicznego-Państwowy Zakład Higieny, Warszawa 2008.

a) Podaj brakujący opis pionowej osi wykresu słupkowego.

.....

b) Na podstawie powyższych danych przedstaw i uzasadnij swoją opinię dotyczącą skuteczności szczepień przeciwko gruźlicy w Polsce.

.....

.....

.....

**Zadanie 13. (1 pkt)**

Poniżej opisano przebieg reakcji odpornościowej.

Po wnikięciu czynnika chorobotwórczego do organizmu, komórki pamięci immunologicznej rozpoznały antygeny na jego powierzchni. Intensywne podziały tych komórek doprowadziły do powstania dużej ilości limfocytów produkujących odpowiednie przeciwciała. Poziom przeciwciał wzrósł tak znacznie, że w ciągu kilku dni infekcja została powstrzymana.

**Napisz, czy opisana reakcja jest pierwotną, czy wtórną odpowiedzią immunologiczną. Odpowiedź uzasadnij.**

.....

.....

**Zadanie 14. (1 pkt)**

Substancje, z których organizm człowieka może wytwarzać witaminy, nazywane są prowitaminami.

**Podaj nazwę witaminy, dla której prowitaminą jest karoten przyjmowany wraz z pokarmem, oraz przykład jej znaczenia w organizmie człowieka.**

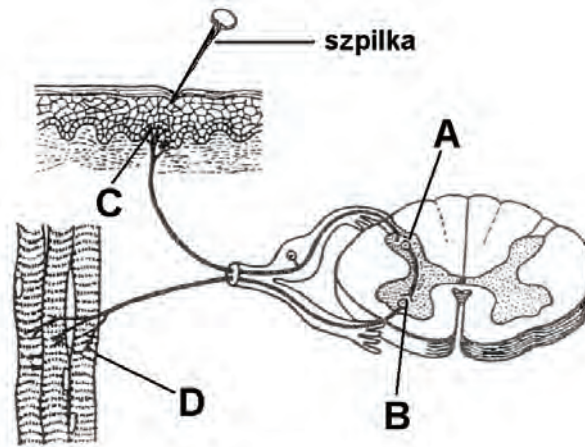
Nazwa witaminy .....

Znaczenie .....



**Zadanie 18. (2 pkt)**

Na schemacie przedstawiono przykład łuku odruchowego.



Na podstawie: J. Chlebińska, *Anatomia i fizjologia człowieka*, WSiP, Warszawa 1981.

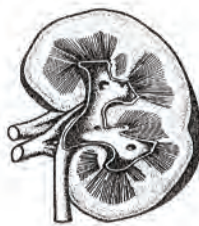
a) Na podstawie analizy powyższego przykładu podaj nazwy dwóch neuronów, przez które przekazywany jest impuls nerwowy w miejscu oznaczonym na schemacie literą A.

1. .... 2. ....

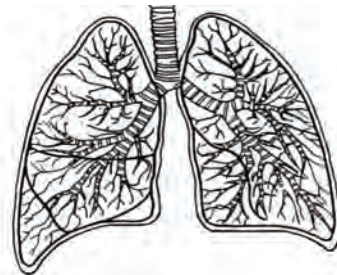
b) Podaj literę, którą na schemacie oznaczono efektor. ....

**Zadanie 19. (3 pkt)**

Na rysunkach przedstawiono dwa narządy, które biorą udział w wydalaniu z organizmu człowieka zbędnych lub szkodliwych produktów przemiany materii.



A



B

Na podstawie: E. Bobrzyńska, *Sprawdzanie i utrwalanie wiadomości z nauki o człowieku*, WSiP, Warszawa 1987.

Uzupełnij poniższą tabelę, wpisując nazwy obu narządów oraz nazwy odpowiednich związków chemicznych, które przez te narządy są wydalane.

Nazwa narządu		Wydalane związki chemiczne	
		charakterystyczny dla danego narządu (1 przykład)	wspólny dla obu narządów
A			
B			



**Zadanie 20. (1 pkt)**

Łożysko zapewnia stałą łączność między matką a rozwijającym się zarodkiem. Jest narządem, który pełni wiele funkcji, np. wydziela relaksynę, stanowi barierę dla drobnoustrojów.

**Przedstaw funkcję łożyska, inną niż funkcje wymienione w tekście.**

.....  
.....

**Zadanie 21. (1 pkt)**

Podejmowanie przez człowieka systematycznych wysiłków fizycznych, wyczynowo czy też rekreacyjnie, prowadzi do wielu zmian adaptacyjnych w jego organizmie. Poniżej wymieniono dwie zmiany zachodzące w organizmie człowieka pod wpływem wysiłku fizycznego.

**Wybierz jedną zmianę adaptacyjną (A lub B) i określ jej rolę w profilaktyce chorób układu krążenia człowieka.**

A. W czasie wykonywania umiarkowanego wysiłku fizycznego, wartości ciśnienia skurczowego i rozkurczowego u osób wytrenowanych są istotnie niższe od wartości stwierdzonych u osób, które nie ćwiczą.

B. Systematyczny trening fizyczny powoduje wzrost stężenia cholesterolu zawartego we frakcji HDL osocza, z jednoczesnym obniżeniem cholesterolu zawartego we frakcji LDL osocza, oraz obniżenie stężenia triglicerydów.

.....  
.....  
.....

**Zadanie 22. (2 pkt)**

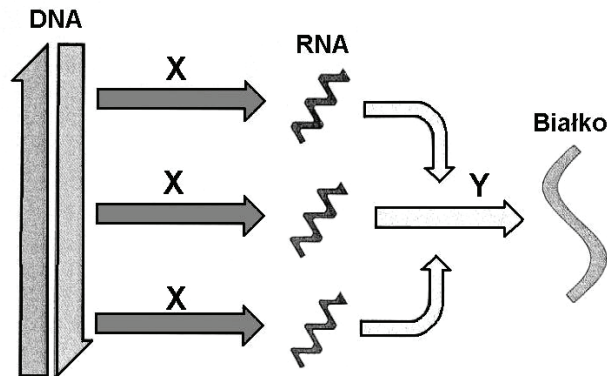
**Określ genetyczne podłoże każdej z wymienionych chorób, wstawiając literę X we właściwej komórce tabeli.**

Nazwa choroby	Sprzężenie z płcią	Autosomia dominująca	Autosomia recesywna	Aberracja chromosomowa
Zespół Turnera				
Zespół Downa				
Hemofilia				
Fenyloketonuria				

Wypełnia egzaminator	Nr zadania	18a)	18b)	19.	20.	21.	22.
	Maks. liczba pkt	1	1	3	1	1	2
	Uzyskana liczba pkt						

**Zadanie 23. (2 pkt)**

Na schemacie przedstawiono przepływ informacji genetycznej od DNA do białka.



Na podstawie: J.H. Postlethwait, J.H. Hopson, R.C. Vernes, *Biology. Bringing science to life*, Oxford 1991.

a) Podaj nazwy procesów oznaczonych na schemacie literami X i Y, wybierając je spośród wymienionych.

translacja, transkrypcja, transdukcja

X. ....

Y. ....

b) Podaj nazwy trzech rodzajów RNA wytwarzanych w procesie X. Podkreśl ten rodzaj kwasu, który zawiera informację o składzie aminokwasów syntetyzowanego białka.

.....

**Zadanie 24. (1 pkt)**

W roku 2003 opublikowano dokument stwierdzający zakończenie sekwencjonowania 99% genomu człowieka z trafnością do 99,99%.

Podaj, czy w celu poznania genomu człowieka zbadano sekwencję nukleotydów w DNA, czy w RNA. Odpowiedź uzasadnij.

.....

.....

**Zadanie 25. (2 pkt)**

Galaktozemia – choroba genetyczna człowieka, jest wywoływana przez zmutowany recesywny allel (**a**) genu niesprzężonego z płcią i dziedziczy się według praw Mendla. Choroba ta występuje tylko u osób homozygotycznych pod względem tego genu.

Podaj prawdopodobieństwo wystąpienia tej choroby u dziecka zdrowych, heterozygotycznych rodziców. Zapisz poniżej odpowiednią krzyżówkę i podkreśl genotyp chorego dziecka.

Genotypy rodziców (P)                      ♀ ..... ♂ .....

Gamety    .....

Genotypy dzieci (F<sub>1</sub>)                              .....

Prawdopodobieństwo                              .....

**Zadanie 26. (1 pkt)**

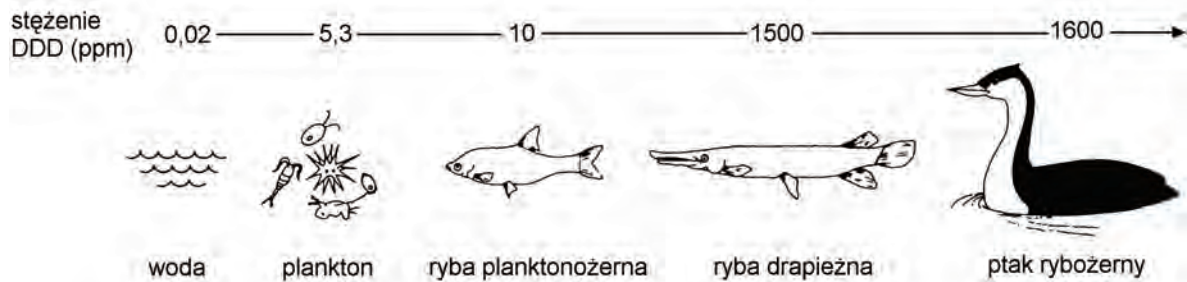
Matka ma grupę krwi AB.

Wybierz grupę krwi, której na pewno nie może mieć jej dziecko, niezależnie od tego, jaką grupę krwi będzie miał jego ojciec. Podkreśl wybraną odpowiedź.

grupa krwi 0,      grupa krwi A,      grupa krwi B,      grupa krwi AB

**Zadanie 27. (3 pkt)**

DDD to środek chemiczny stosowany do zwalczania larw niektórych gatunków komarów. Na poniższym schemacie przedstawiono zmiany stężenia DDD w organizmach tworzących fragment sieci pokarmowej jeziora, w którym środek ten był zastosowany.



Źródło: A. Mackenzie, A.S. Ball, S.R. Virdee, *Krótkie wykłady. Ekologia*, PWN, Warszawa 2007.

a) Określ zależność między stężeniem DDD w organizmach a ich miejscem we fragmencie sieci pokarmowej przedstawionej na schemacie.

.....

.....

b) Wyjaśnij, dlaczego w przedstawionym fragmencie sieci pokarmowej stężenie DDD w organizmie ryby drapieżnej jest porównywalne ze stężeniem DDD w organizmie ptaka rybożernego.

.....

.....

.....

c) Spośród podanych określeń wybierz i podkreśl dwa, które mogą poprawnie charakteryzować zależność międzygatunkową między rybą drapieżną i ptakiem rybożernym w przedstawionym fragmencie sieci pokarmowej.

antagonistyczna, nieantagonistyczna, drapieżnictwo, konkurencja, pasożytnictwo

Wypełnia egzaminator	Nr zadania	23a)	23b)	24.	25.	26.	27a)	27b)	27c)
	Maks. liczba pkt	1	1	1	2	1	1	1	1
	Uzyskana liczba pkt								

**Zadanie 28. (2 pkt)**

Kowalik to ptak z rzędu wróblowych, który żywi się przede wszystkim larwami i poczwarkami owadów, wydobywanymi z pęknięć kory drzew. W okresie zimowym głównym jego pokarmem są nasiona roślin. Krogulec należy do ptaków drapieżnych i poluje m.in. na kowaliki. Oba ptaki występują w całej Europie w lasach, parkach i sadach.

a) Na podstawie powyższego tekstu podaj wszystkie poziomy troficzne, które może zajmować kowalik w łańcuchach pokarmowych.

.....

b) Korzystając z powyższych informacji, zapisz prawdopodobny łańcuch pokarmowy z udziałem kowalika i krogulca.

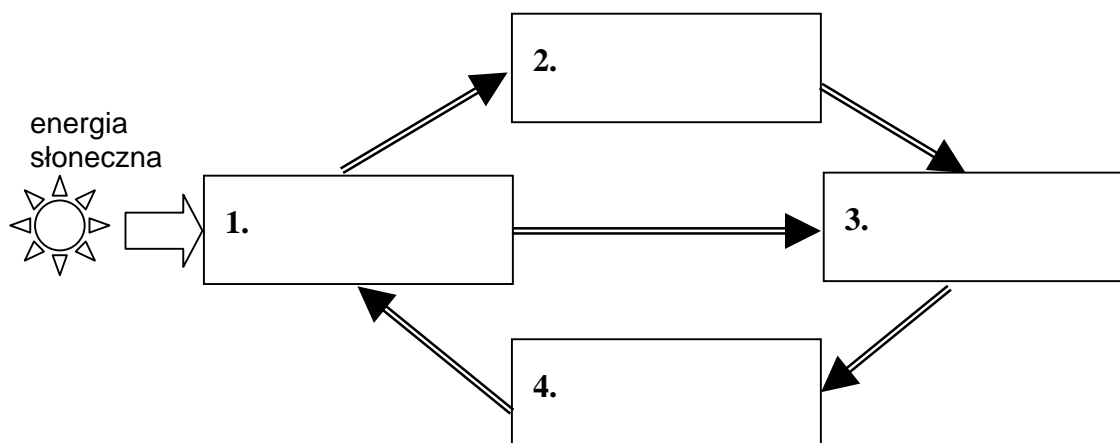
.....

**Zadanie 29. (1 pkt)**

Obieg materii w przyrodzie to proces ciągłego krążenia niezbędnych do życia substancji chemicznych między środowiskiem a organizmami żywymi.

Uzupełnij poniższy schemat, tak aby ilustrował obieg materii w przyrodzie. Wpisz w odpowiednie miejsca schematu określenia wybrane z poniższych.

związki organiczne, związki nieorganiczne, producenci, destruenci, konsumenci

**Zadanie 30. (1 pkt)**

Paliwem często używanym w kotłach gazowych jest gaz ziemny, którego głównym składnikiem jest metan  $\text{CH}_4$  (ok. 90%). Okazuje się jednak, że zamiast eksploatować złoża kopalin, można pozyskiwać metan z szybko odnawialnych upraw roślinnych. Podczas naturalnego procesu fermentacji wytwarza się biogaz, który składa się z ok. 65% metanu i 35% dwutlenku węgla. Do produkcji metanu można również wykorzystywać różne odpadki roślinne, nawóz zwierzęcy oraz niewykorzystane plony.

Na podstawie tekstu uzasadnij, że wykorzystanie biogazu jako źródła energii może przyczynić się do ochrony środowiska.

.....

.....

Wypełnia egzaminator	Nr zadania	28a)	28b)	29.	30.
	Maks. liczba pkt	1	1	1	1
	Uzyskana liczba pkt				

## **BRUDNOPIS**