

Miejsce
na naklejkę
z kodem

(Wpisuje zdający przed
rozpoczęciem pracy)

--	--	--

KOD ZDAJĄCEGO

MHI-W1D1P-021

EGZAMIN MATURALNY Z HISTORII

Arkusz I

Czas pracy 60 minut

ARKUSZ I

STYCZEŃ
ROK 2003

Instrukcja dla zdającego

1. Proszę sprawdzić, czy arkusz egzaminacyjny zawiera 12 stron. Ewentualny brak należy zgłosić przewodniczącemu zespołu nadzorującego egzamin.
2. Proszę uważnie czytać wszystkie polecenia.
3. Odpowiedzi trzeba zapisać czytelnie w miejscu na to przeznaczonym przy każdym zadaniu.
4. Proszę pisać tylko w kolorze niebieskim lub czarnym; nie pisać ołówkiem.
5. Nie wolno używać korektora.
6. Błędne zapisy trzeba wyraźnie przekreślić.
7. Wszelkie notatki należy sporządzać tylko w brudnopisie, który nie będzie oceniany.
8. Obok każdego zadania podana jest maksymalna liczba punktów, którą można uzyskać za jego poprawne rozwiązanie.
9. Do ostatniej kartki arkusza dołączona jest **karta odpowiedzi**, którą **wypełnia egzaminator**.

Życzymy powodzenia!

Za rozwiązanie
wszystkich zadań
można otrzymać
90 punktów.
(Do punktacji
końcowej egzaminu z
historii wliczona jest
suma punktów
uzyskana z tego
arkusza podzielona
przez 3)

(Wpisuje zdający przed rozpoczęciem pracy)

--	--	--	--	--	--	--	--	--	--	--	--


PESEL ZDAJĄCEGO

Zadanie 1. (2 pkt)

Nazwij rodzaje pisma przedstawione na ilustracjach.



a)



b)

Zadanie 2. (4 pkt)

Do każdego z podanych osiągnięć dopisz nazwę państwa, któremu zawdzięczamy wskazane osiągnięcie.

- a) cyfry arabskie
- b) porcelana
- c) podział doby na 24 godziny
- d) pismo alfabetyczne

Zadanie 3. (3 pkt)

Do podanych objaśnień przyporządkuj pojęcia.

- | | | |
|---|--------------------------|---------------|
| ustrój, w którym pełnię władzy mają kapłani | <input type="checkbox"/> | a) index |
| wiara w wielu bogów | <input type="checkbox"/> | b) kodeks |
| zbiór norm prawnych | <input type="checkbox"/> | c) politeizm |
| | | d) teokracja |
| | | e) oligarchia |

Zadanie 4. (1 pkt)

Nazwij formę ustrojową opisaną w poniższym źródle.

Był on pierwszym, który nosił wyszukane, złotem tkane, jedwabne szaty i znajdował upodobanie w obuwiu purpurowym, wysadzonym drogimi kamieniami [...] Jeśli to już jest dowodem zarozumiałości, pychy i chęci wynoszenia się ponad innych rzymskich obywateli, to jest to drobnostka w porównaniu do tego, że pierwszy od czasów Kaliguli i Domicjana polecił tytułować się publicznie panem i bogiem i przy powitaniu cześć boską sobie oddawać. [...]

.....

Zadanie 5. (4 pkt)

Dopisz daty do poniższych wydarzeń.

- koronacja cesarska Karola Wielkiego
- bitwa pod Hastings
- koronacja cesarska Ottona I
- synod w Clermont

Zadanie 6. (1 pkt)

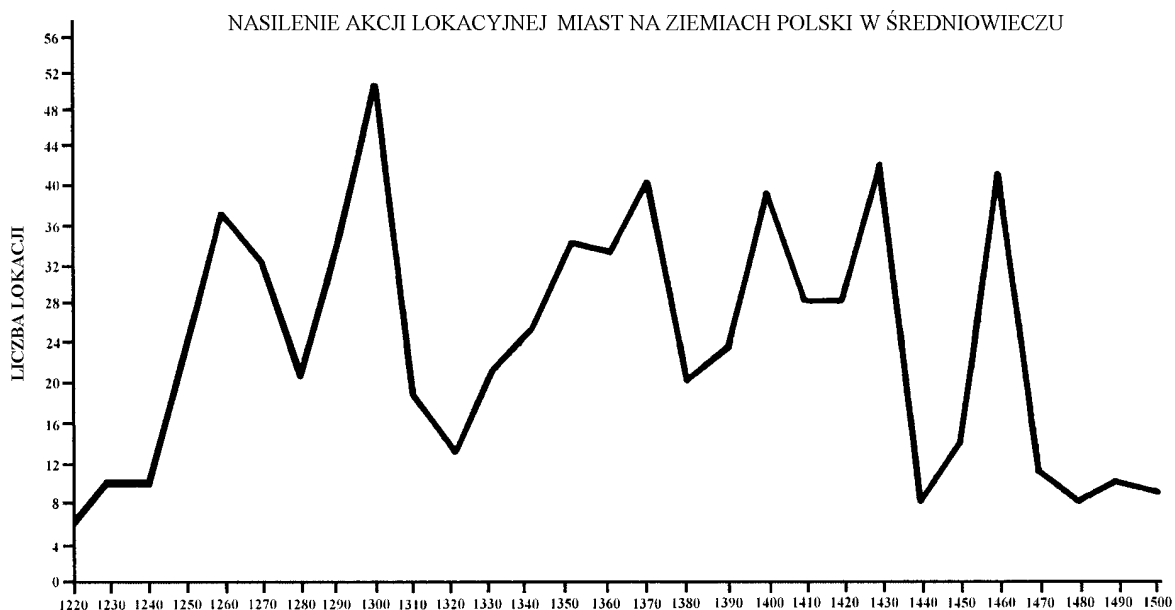
Podkreśl, kto był autorem „Żywota Karola Wielkiego”.

Thietmar, Gall Anonim, Einhard, Nestor

Zadanie 7. (6 pkt)

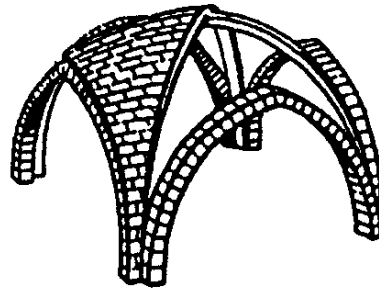
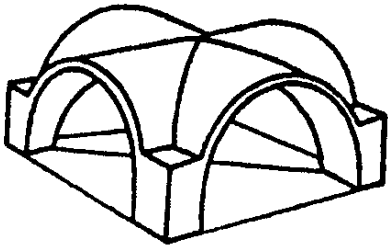
Korzystając z wiedzy pozazródłowej, przeanalizuj wykres i wyjaśnij, dlaczego nastąpiło nasilenie akcji lokacyjnej na ziemiach polskich ok. roku:

- 1260 –
-
- 1300 –
-
- 1370 –
-



Zadanie 8. (2 pkt)

Nazwij style architektoniczne, przedstawione na ilustracjach.



a)

b)

Zadanie 9. (3 pkt)

Podkreśl 3 nazwy roślin sprowadzonych do Europy z Ameryki w XVI wieku.

kukurydza, kawa, ryż, ziemniaki, herbata, pieprz, pomidory, pszenica, sałata

Zadanie 10. (3 pkt)

Podkreśl nazwy 3 państw, które w wojnie trzydziestoletniej walczyły po stronie protestantów.

Austria, Czechy, Rzeczpospolita, Francja, Szwecja, Bawaria

Zadanie 11. (6 pkt)

Uzupełnij tabelę.

Bitwa	Rok	Dowódca (imię i nazwisko)
Kircholm
.....	Stanisław Żółkiewski
Cecora

Zadanie 12. (6 pkt)

Wyjaśnij pojęcia:

a) interrex

.....

b) konwokacja

.....

c) elekcja viritim

.....

.....

Zadanie 13. (1 pkt)

Z jakim wydarzeniem wiążesz ustanowienie przedstawionego orderu?



.....

Zadanie 14. (6 pkt)

Uzupełnij tabelkę dotyczącą pierwszych konstytucji na świecie.

Rok	Kraj	Ustrój polityczny
1787		
	Rzeczpospolita	
		monarchia konstytucyjna

Zadanie 15. (1 pkt)

Nazwij dokument, z którego pochodzą przytoczone fragmenty:

Art. 1. Ludzie rodzą się i żyją wolnymi i równymi wobec prawa [...]

Art. 3. Źródłem każdej władzy suwerennej jest naród [...]

Art. 17. Własność jest prawem nienaruszalnym i świętym [...]

Zadanie 16. (1 pkt)

Uporządkuj we właściwej kolejności od 1 do 6 formy ustrojowe państwa francuskiego w latach 1789 – 1814. Wpisz numery od 1 do 6 we właściwe kratki.

republika	<input type="text"/>	konsulat	<input type="text"/>
cesarstwo	<input type="text"/>	monarchia konstytucyjna	<input type="text"/>
monarchia absolutna	<input type="text"/>	dyrektoriat	<input type="text"/>

Zadanie 17. (3 pkt)

Wymień cesarzy, którzy wzięli udział w 1805 r. w bitwie pod Austerlitz, nazwanej „bitwą trzech cesarzy”.

-
-
-

Zadanie 18. (3 pkt)

Wymienione bitwy połącz z nazwiskami wodzów.

Iganie	<input type="text"/>	a) Józef Chłopicki
Ostrołęka	<input type="text"/>	b) Jan Skrzynecki
Olszynka Grochowska	<input type="text"/>	c) Ignacy Prądzyński
		d) Józef Bem

Zadanie 19. (4 pkt)

Połącz postać z pełnioną przez nią funkcją.

- | | | |
|------------------|--------------------------|--|
| Jan Tyssowski | <input type="checkbox"/> | a) dyktator powstania styczniowego |
| Iwan Paskiewicz | <input type="checkbox"/> | b) dowódca wojsk rosyjskich w wojnie polsko-rosyjskiej 1831 r. |
| Stefan Bobrowski | <input type="checkbox"/> | c) naczelnik Warszawy w czasie powstania styczniowego |
| Józef Chłopiński | <input type="checkbox"/> | d) dyktator powstania listopadowego |
| | | e) dowódca wojsk rosyjskich walczących w powstaniu styczniowym |
| | | f) dyktator powstania krakowskiego |
| | | g) dowódca korpusu polskiego w Wielkopolsce |

Zadanie 20. (6 pkt)

Wyjaśnij poniższe pojęcia:

a) liberalizm

.....
.....

b) konserwatyzm

.....
.....

c) legitymizm

.....
.....

Zadanie 21. (6 pkt)

Napisz na mapie sąsiadów II Rzeczypospolitej w 1923 r.

**Zadanie 22. (3 pkt)**

Wyjaśnij, jakie wydarzenia wiążesz z podanymi określeniami.

„cud nad Wisłą” –

.....

„dziwna wojna” –

.....

„piąta kolumna” –

.....

Zadanie 23. (4 pkt)

Podaj pełną nazwę wymienionych organizacji.

ZWZ –


SZP –

ZWM –

AK –

Zadanie 24. (1 pkt)

Narysuj znak „Polski Walczącej”.



Zadanie 25. (7 pkt)

Wpisz na mapie nazwy państw, należących do Układu Warszawskiego.



Zadanie 26. (3 pkt)

Kto, kiedy i gdzie wypowiedział słowa: „*Od Szczecina nad Bałtykiem do Triestu nad Adriatykiem, w poprzek całego kontynentu opuściła się żelazna kurtyna.*”

- a)
- b)
- c)

BRUDNOPIS

