

Poszukiwanie skarbów

Był 20 lipca, słoneczny, ale niezbyt upalny dzień. Tomek z Jackiem bawili się w opuszczonym ogrodzie. Dookoła bujnie rosły chwasty. Uwagę chłopców przyciągnęło drzewo rosnące samotnie na skraju posiadłości. Pobiegli ku niemu. Coś błysnęło w słońcu. Okazało się, że to stare, metalowe pudełko. W środku znaleźli pożółkłą mapę pokrytą różnorodnymi znakami. Pokazali ją Andrzejowi – starszemu bratu Tomka, studentowi archeologii. Jego zdaniem na mapie zaznaczono miejsce ukrycia skarbu. zaproponował zorganizowanie wspólnej wyprawy poszukiwawczej.

Zadanie 1.

Przytoczony tekst jest fragmentem

- A. baśni. B. legendy. C. opowiadania. D. sprawozdania.

Zadanie 2.

Kiedy Tomek z Jackiem znaleźli tajemniczą puszkę?

- A. Wiosną. B. Latem. C. Jesienią. D. Zimą.

Zadanie 3.

Aby odnaleźć skarb, grupa powinna zabrać na wyprawę

- A. kompas i znalezioną mapę.
B. łopatę i znalezione pudełko.
C. lornetkę i aparat fotograficzny.
D. taśmę mierniczą i atlas geograficzny.

Zadanie 4.

Andrzej studiuje archeologię, czyli naukę zajmującą się badaniem przeszłości na podstawie

- A. wykopalisk. C. ukształtowania terenu.
B. ruchu planet. D. obserwacji zjawisk przyrody.

Zadanie 5.

Planując wyprawę dzieci postanowiły zapoznać się z prognozą pogody na najbliższe dni. Dowiedzą się o niej czytając:

- A. miesięcznik przyrodniczy „Aura”.
B. powieść pt. „Pogoda dla bogaczy”.
C. gazetę codzienną „Sytuacje”.
D. książkę pt. „Meteorologia”.

Z pomocą Andrzeja chłopcy rozszyfrowali mapę. Ustalili, że poszukiwania należy prowadzić na wyspie położonej na Jeziorze Długim. Nad jezioro, odległe o 40 km od ich rodzinnego Janowca, postanowili dotrzeć rowerami. Pojawił się jednak problem z dopłynięciem na wyspę. Tomek zwierzył się z kłopotu Kasi i Marcie – najlepszym koleżankom. Kasia przypomniała sobie, że jej dziadek, który mieszka nad jeziorem, ma łódkę i na pewno chętnie ją pożyczy. Dziewczęta z zapałem przyłączyły się do poszukiwań.

Zadanie 6.

Nad jeziorem mieszka dziadek

- A. Andrzeja. B. Tomka. C. Marty. D. Kasi.





Zadanie 7.

Ile osób uczestniczyło w wyprawie poszukiwawczej?

- A. Dwie. B. Trzy. C. Cztery. D. Pięć.

Zadanie 8.

Rowerzysta jest zobowiązany do przestrzegania przepisów ruchu drogowego. Który z przedstawionych znaków zabrania poruszania się rowerem po drodze?

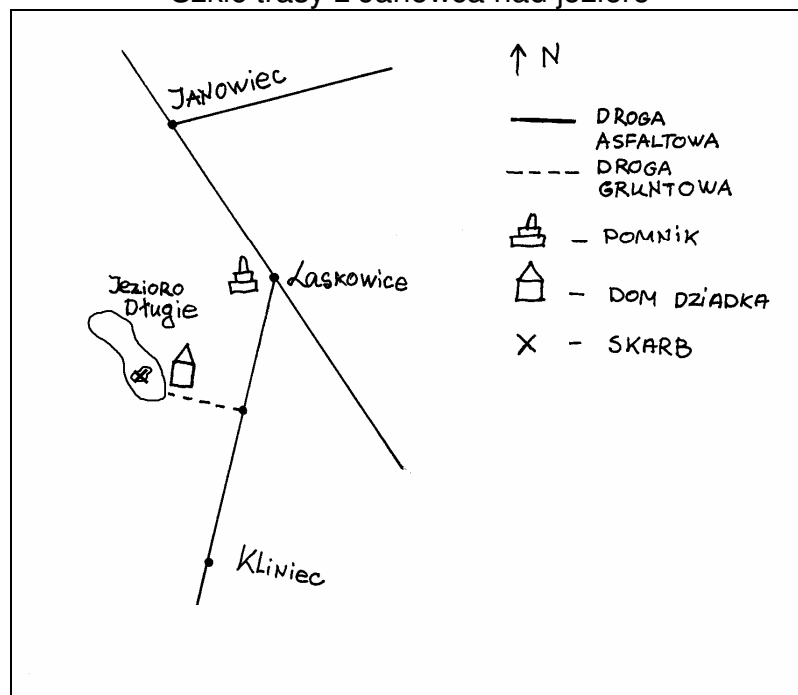
- A.  B.  C.  D. 

Zadanie 9.

Na mapie odległość od Janowca do wyspy wynosi 8 cm. Rzeczywista odległość między tymi miejscami to 40 km. Jaka jest skala mapy?

- A. 1 : 5 B. 1 : 5 000 C. 1 : 50 000 D. 1 : 500 000

Szkic trasy z Janowca nad jezioro

**Zadanie 10.**

W jakim kierunku dzieci wyruszyły z Janowca, aby dotrzeć nad jezioro?

- A. Północno-wschodnim. C. Północno-zachodnim.
B. Południowo-wschodnim. D. Południowo-zachodnim.

Zadanie 11.

W drodze nad jezioro dzieci miały pomnik. Odczytały na nim napis: „Bohaterom powstania styczniowego”. Informacje na temat tego wydarzenia mogą znaleźć w

- A. słownika geograficznego. C. szkolnej encyklopedii historii.
B. słownika języka polskiego. D. szkolnej encyklopedii geografii.

Zadanie 12.

Pomnik partyzantów znajduje się

- A. nad Jeziorem Długim. C. koło Janowca.
B. koło Laskowic. D. na wyspie.

Zadanie 13.


Z Janowca do Laskowic jest 20 km. Pokonując tę trasę, rowerzyści przejeżdżali 10 km w ciągu każdej godziny. Po jakim czasie dotarli do Laskowic?

- A. 1 h B. 2 h C. 1,5 h D. 2,5 h

Zadanie 14.


Poszukiwacze wyruszyli z domu o godzinie 10⁰⁵. Dotarli nad jezioro po czterech godzinach i trzech kwadransach. Który zegar wskazuje godzinę ich przybycia nad jezioro?

A.




I

B.




II

C.



III

D.



IV

Zadanie 15.

Na którym zegarze wskazówki tworzą kąt ostry?

- A. I B. II C. III D. IV

Zadanie 16.

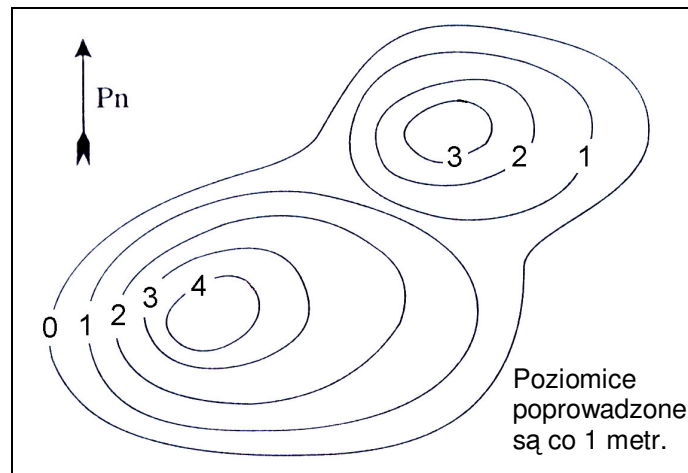
Rowerzyści dotarli nad jezioro zgrzani, zmęczeni i głodni jak wilki.

Wyrażenie „głodni jak wilki” jest

- A. epitetem. C. porównaniem.
B. przenośnią. D. wyrazem dźwiękonaśladowczym.

Zadanie 17.

Poniżej przedstawiono ukształtowanie wyspy:



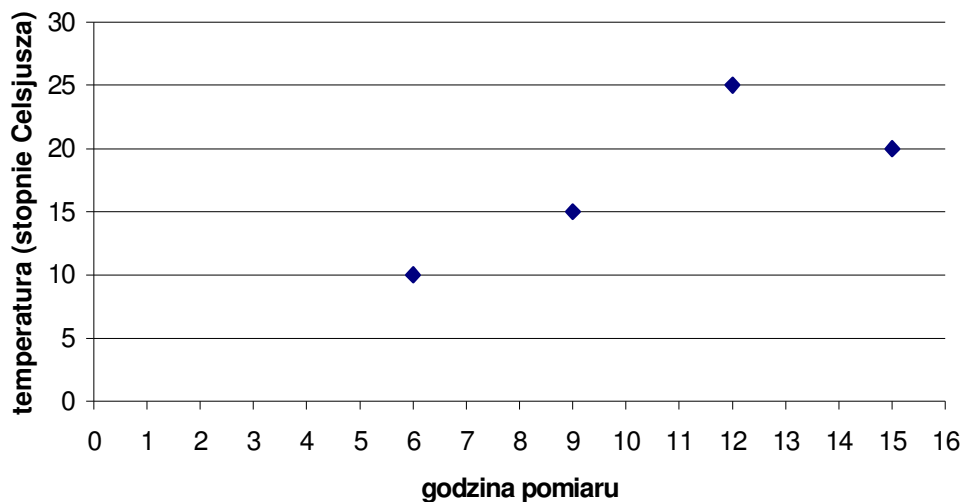
Na wyspie znajdują się

- A. kotlina i wzniesienie.
- B. dwa wzniesienia.

- C. dolina i góra.
- D. dwie kotliny.

Zadanie 18.

Wykres przedstawia temperaturę powietrza na wyspie, mierzoną cztery razy w ciągu dnia.



Odczytaj z wykresu najwyższą temperaturę powietrza na wyspie zmierzoną w tym dniu.

- A. 15°C
- B. 20°C
- C. 25°C
- D. 30°C

Zadanie 19.

Po dwóch godzinach poszukiwań chłopcy znaleźli monety zakopane w ziemi. Jedna z nich pochodziła z 1923 roku, czyli wieku

- A. XVIII
- B. XIX
- C. XX
- D. XXI

