

# „Wszystkim wstęp wolny”

*Napis, na podłozie Muzeum w Wilanowie, witający gości.*



*Pałac w Wilanowie, letnia rezydencja króla Jana III Sobieskiego (panującego w latach 1674-1696), jest jednym z najcenniejszych polskich zabytków. Architektem pałacu był Polak włoskiego pochodzenia - Augustyn Wincenty Locci.*


*Pałac otoczono z trzech stron ogrodem, z którego można podziwiać bogato zdobione elewacje budynku. Na nich przedstawione są m.in. sceny związane ze zwycięstwem Jana III Sobieskiego pod Wiedniem.*

*W 1692 roku astronom Jan Heweliusz wykonał na ścianie pałacu przyrząd służący do określania pory dnia. Cień pióra w ręku starca wskazuje czas miejscowy.*

*Bogatą dekoracją ścian i sufitów oraz cennym wyposażeniem odznaczają się także wnętrza pałacu.*

*W ciągu ponad 300 lat swojego istnienia Wilanów przeżywał okresy upadku i świetności. Gromadzone w pałacu zbiory artystyczne, dzieła wybitnych twórców, krajowych i zagranicznych, świadczą o wysokim poziomie narodowego kolekcjonerstwa.*

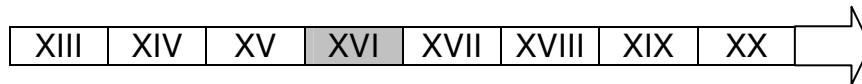
*Dzieje muzeum sięgają 1805 roku, kiedy to Stanisław Kostka Potocki (wybitny działacz oświecenia), udostępnił sale swej rezydencji wraz ze zbiorami polskiemu społeczeństwu. Budowla została wpisana na listę światowego dziedzictwa kultury.*



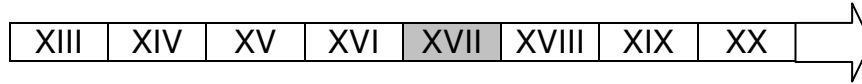
1. Powyższy tekst jest fragmentem:
  - A. utworu lirycznego,
  - B. powieści fantastycznej,
  - C. zbioru legend,
  - D. przewodnika turystycznego.
2. Pałac w Wilanowie zaprojektował:
  - A. Jan III Sobieski,
  - B. Jan Heweliusz,
  - C. Augustyn Wincenty Locci,
  - D. Stanisław Kostka Potocki.

3. Na której osi czasu zamalowano wiek wzniesienia pałacu?

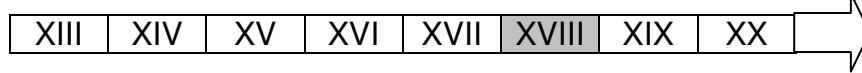
A.



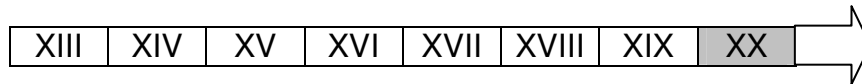
B.



C.



D.



4. Na podstawie zamieszczonej ilustracji pałacu wskaż prawidłowy opis budowli:

- A. środkowa część zakończona jest trójkątnym szczytem,
- B. środkowa część pokryta jest ogromną kopułą,
- C. ma układ symetryczny,
- D. ma okrągłe wieże.

5. Niżej wymienione są charakterystyczne cechy czterech stylów architektonicznych. W którym stylu został zbudowany pałac w Wilanowie?

- A. romański- gładkie ściany, małe okna, grube mury;
- B. gotycki- strzelista wysoka wieża, filary, ostre łuki;
- C. renesansowy- wieża zakończona kopułą, dekoracyjne wykończenie dachu budynku;
- D. barokowy- otwarty dziedziniec otoczony skrzydłami budynku, bogate zdobnictwo.

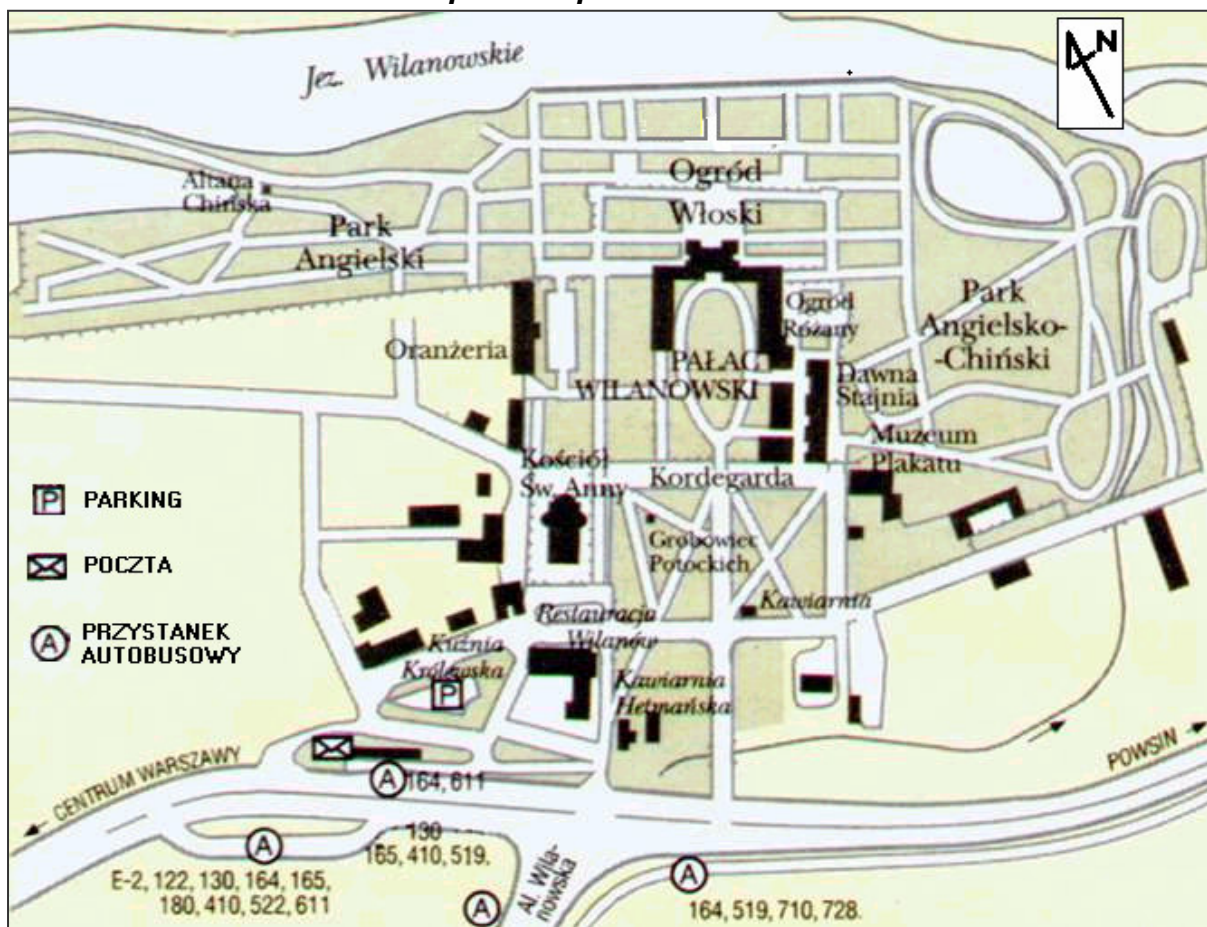
6. Jan Heweliusz umieścił na ścianie pałacu:

- A. mapę,
- B. klepsydrę,
- C. zegar słoneczny,
- D. zegar mechaniczny.

7. Zwiedzając muzeum należy pamiętać, aby:

- A. nie dotykać eksponatów,
- B. nie kupować biletu wstępu,
- C. nie zadawać pytań przewodnikowi,
- D. nie zatrzymywać się przy obrazach.

### Plan pałacu i parku w Wilanowie



8. Na podstawie zamieszczonego planu określ kierunek, w jakim znajduje się Altana Chińska w stosunku do pałacu.
  - A. północny wschód,
  - B. północny zachód,
  - C. południowy wschód,
  - D. południowy zachód.
  
9. Na przystanku autobusowym obok poczty zatrzymują się autobusy linii numer :
  - A. 122, E-2
  - B. 519, 728
  - C. 164, 611
  - D. 410, 710
  
10. Najkrótsza trasa z poczty do pałacu prowadzi:
  - A. przez Park Angielsko-Chiński i Ogród Różany,
  - B. obok Muzeum Plakatu i Dawnej Stajni,
  - C. obok Oranżerii i Altany Chińskiej,
  - D. obok Kuźni Królewskiej i Kościoła Świętej Anny.

## **Informacja dla zwiedzających park w Wilanowie**

**PARK otwarty codziennie od godz. 9.30 do zmierzchu.**

### **ORANŻERIA - udostępniona ekspozycja rzemiosła artystycznego**

- codziennie oprócz wtorków godz. 9.30 - 16.00, w sezonie turystycznym (15 czerwca - 15 września) w niedziele w godz. 10.00 - 18.00,
- obowiązuje bilet wstępu do parku, we czwartki: park, Oranżeria - wstęp bezpłatny.

### **Ceny biletów wstępu do parku:**

#### **wstęp (bez oprowadzania):**

- bilet normalny 4 zł
- bilet ulgowy 2,50 zł

#### **wstęp i oprowadzanie w języku polskim (w tym opłata za przewodnika 2 zł):**

- bilet normalny 5,50 zł
- bilet ulgowy 4,50 zł

#### **wstęp i oprowadzanie w języku obcym:**

- bilet grupowy 65 zł  
(w tym opłata za przewodnika 40 zł, grupa do pięciu osób)
- bilet normalny 13 zł  
(w tym opłata za przewodnika 8 zł, grupa powyżej pięciu osób)

#### **karnet kwartalny:**

- normalny 30 zł
- ulgowy 15 zł

11. W które dni tygodnia zwiedzanie *Oranżerii* jest niemożliwe?

- A. w soboty,
- B. w niedziele,
- C. we wtorki,
- D. we czwartki.

12. Ile procent zniżki mają uczniowie przy zakupie karnetów kwartalnych uprawniających do zwiedzania parku?

- A. 15%
- B. 30%
- C. 45%
- D. 50%

13. Ile razy w ciągu kwartału szóstoklasista musiałby odwiedzić park (bez przewodnika), aby opłacało się mu kupić karnet kwartalny?

- A. więcej niż 6 razy,
- B. 5 razy,
- C. 4 razy,
- D. mniej niż 3 razy.

14. Park w Wilanowie zajmuje powierzchnię 43 ha, czyli:

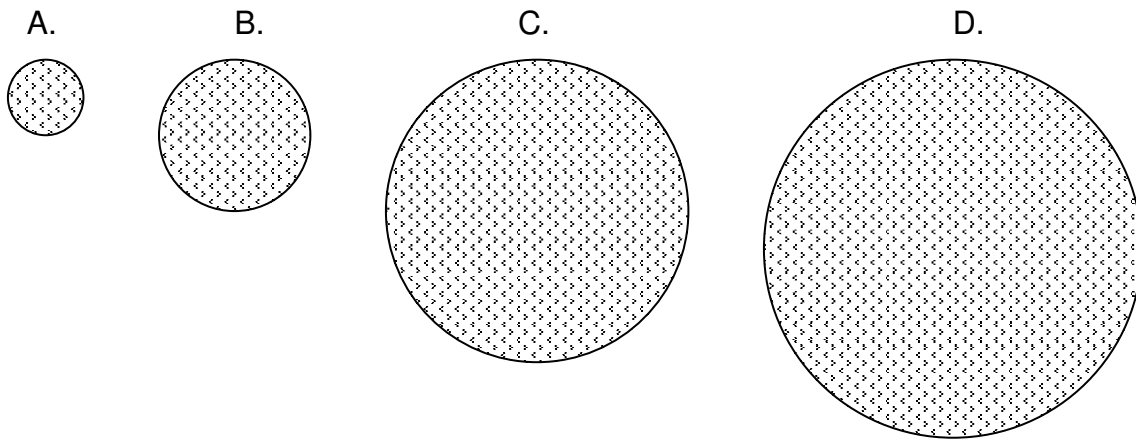
- A. 4,3 km<sup>2</sup>
- B. 430 000 m<sup>2</sup>
- C. 430 a
- D. 0,43 a

$$1 \text{ km}^2 = 100 \text{ ha}$$

15. W parku znajdują się rabaty kwiatowe o różnych kształtach. Niżej podane są wymiary czterech rabat w kształcie prostokąta. Wśród nich największą powierzchnię ma rabata o wymiarach:

- A. 21,5 m i 13 m
- B. 12 m i 13,5 m
- C. 21 m i 15 m
- D. 11,5 m i 4 m

16. Jedna z rabat w Ogrodzie Różanym ma kształt koła o średnicy 10 m. Który rysunek przedstawia plan tej rabaty w skali 1 : 500?



**Fragment tekstu Marii Kuncewiczowej: Listy do ...**

*(...) Nie pamiętam Jerzy naszych rozmów o pałacach. Mówiło się o kamienicach, o chatach, o dworach... Wilanów dla mnie ożył, dopiero kiedy się dowiedziałam, że tam można od ogrodnika kupować kwitnące gałęzie magnolii. Ustawiłam sobie taki bukiet na desce fortepianu (...)*

17. Adresatem listu jest:

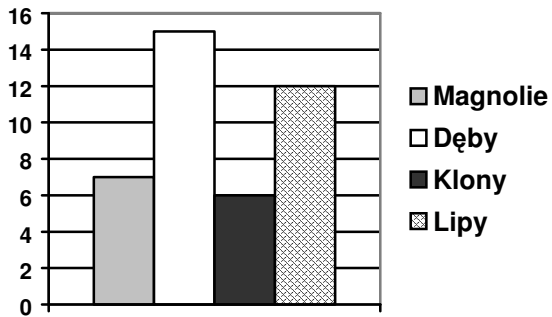
- A. Maria Kuncewiczowa,
- B. Jerzy,
- C. ogrodnik,
- D. Jan III Sobieski.

18. W powyższym tekście przerośnią jest:

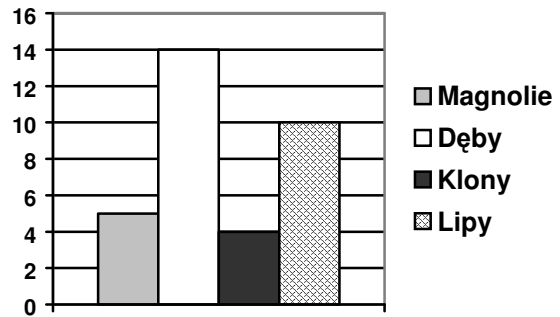
- A. Wilanów dla mnie ożył,
- B. Kwitnące gałęzie magnolii,
- C. Ustawiłam sobie taki bukiet,
- D. Mówiło się o kamienicach.

19. W parku w Wilanowie rośnie ok. 100 drzew znajdujących się pod szczególną ochroną. Wśród nich jest 7 dużych magnolii, 16 dębów, 6 klonów i 12 lip. Który diagram przedstawia właściwą liczbę drzew?

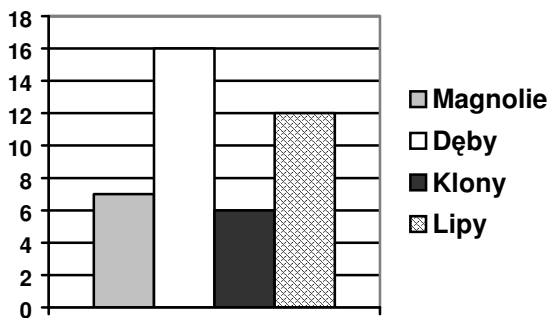
A.



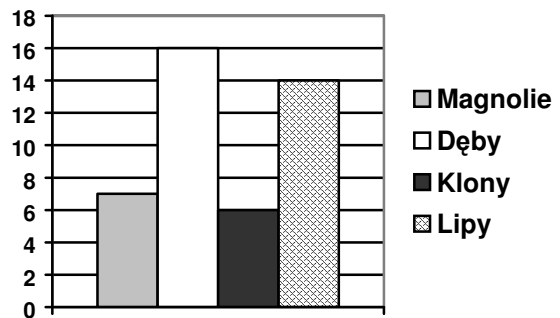
B.



C.



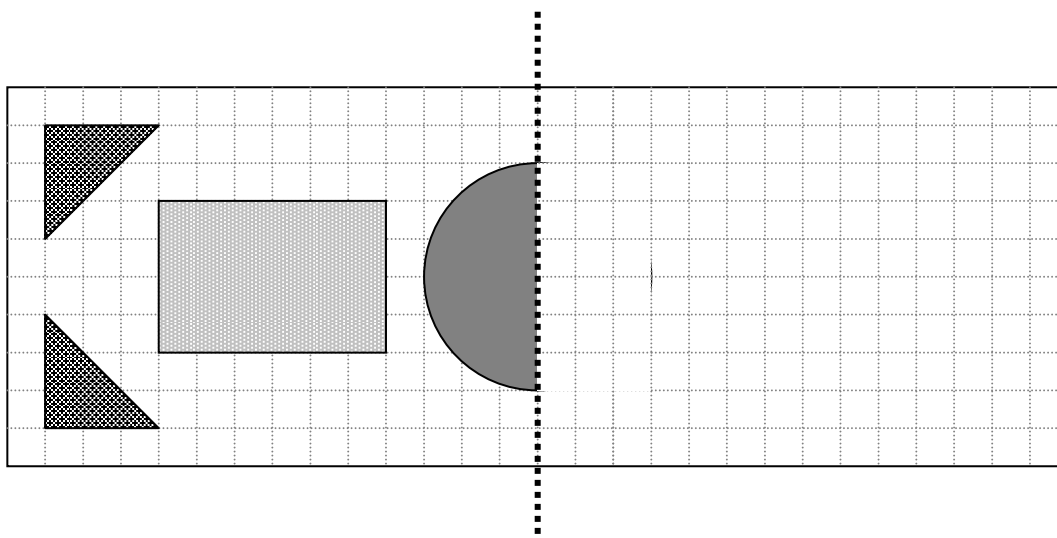
D.



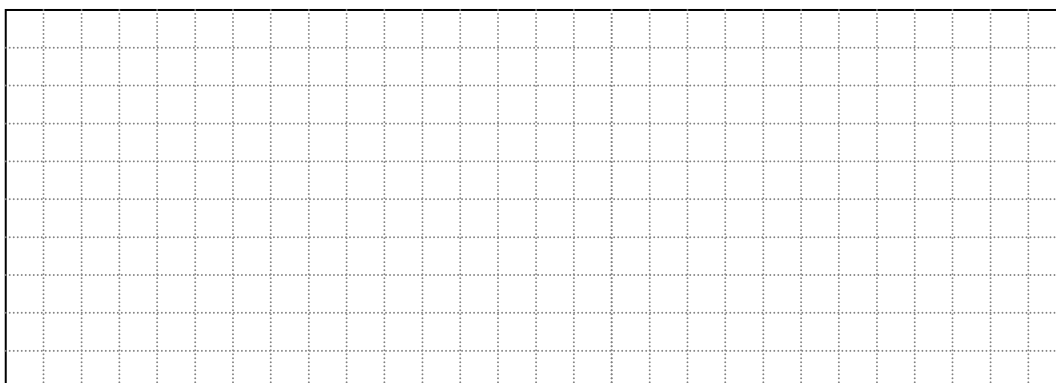
20. Ogrody Wilanowa, głównie wiosną i latem, są bajecznie kolorowe ze względu na dużą ilość kwiatów. Dzięki swoim barwom rośliny te:

- A. dłużej utrzymują wilgoć,
- B. chętniej są zapylane przez owady,
- C. lepiej transportują związki pokarmowe,
- D. skuteczniej przeprowadzają proces fotosyntezy.

21. Rysunek przedstawia rozmieszczenie kwiatów na lewej połowie rabaty. Kwiaty prawej części umieszczone są symetrycznie. Uzupełnij brakującą część rysunku.



22. Na jednej z rabat w parku posadzono w rzędach tworzących prostokąt krzewy róż, po tyle samo krzewów w każdym rzędzie.  
W ilu rzędach i po ile krzewów w każdym rzędzie można posadzić 20 krzewów róż? Podaj wszystkie możliwości.



Dla ilu krzewów jest najwięcej możliwości rozmieszczenia róż: 20, 30 czy 35?  
Uzasadnij odpowiedź.



Odpowiedź: \_\_\_\_\_



23. Pędy drzew i krzewów rosnących w parku są regularnie przycinane. Wyjaśnij, jakie znaczenie, poza nadawaniem ozdobnych kształtów, ma przycinanie głównych pędów roślin.

Odpowiedź: \_\_\_\_\_

\_\_\_\_\_

\_\_\_\_\_

\_\_\_\_\_

\_\_\_\_\_

24. W Muzeum Plakatu w Wilanowie co dwa lata organizowana jest Międzynarodowa Wystawa Plakatu (Biennale Plakatu). Napisz ogłoszenie informujące o jej otwarciu w maju bieżącego roku.

A large, decorative scroll-shaped writing area. The scroll is oriented vertically, with the top edge on the left and the bottom edge on the right. The scroll is outlined in black and has a grey shaded area at the top-left and bottom-right corners, representing the rolled-up ends of the scroll. The interior of the scroll is filled with horizontal lines for writing.



