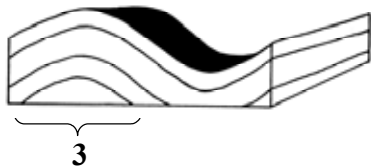
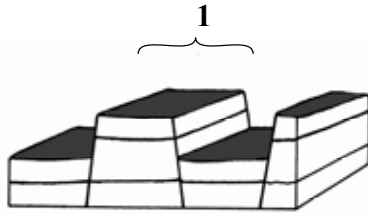


Zadanie 17. (2 pkt)

Na rysunkach przedstawiono wybrane struktury geologiczne.



Na podstawie: Dorota Makowska, *Geografia fizyczna. Zadania geograficzne*,
Wyd. KORIS, Warszawa 1993

Przyporządkuj strukturom geologicznym opisanym na rysunkach cyframi od 1 do 4 odpowiednie nazwy, wybierając z podanych poniżej.

zrąb tektoniczny, antyklina, płaszczowina, monoklina, niecka

Zadanie 18. (1 pkt)

Na skutek eksploatacji węgla kamiennego na Górnym Śląsku zachodzą w wielu miejscach zmiany w ukształtowaniu powierzchni, powstają zapadliska, pękają ściany domów.

Podaj dwie propozycje działań, mających na celu ograniczenie negatywnych skutków działalności górniczej.

1.

.....

2.

.....

Zadanie 19. (2 pkt)

Podaj po jednym przyrodniczym czynniku rozwoju:

– turystyki w Szwajcarii.

.....

– przemysłu meblowego w Finlandii.

.....

– hutnictwa żelaza na Ukrainie.

.....

Zadanie 20. (1 pkt)

W związku z coraz większym zapotrzebowaniem na produkty pochodzenia morskiego rośnie znaczenie marikultury (hodowli organizmów w przybrzeżnych wodach morskich).

Oceń znaczenie marikultury z punktu widzenia ochrony zasobów mórz i oceanów. Odpowiedź uzasadnij.

Ocena:

Uzasadnienie:

.....
.....

Zadanie 21. (2 pkt)

W drugiej połowie XX w. nastąpił gwałtowny wzrost wielkości połowów związany z rozwojem cywilizacyjnym i wzrostem liczby ludności. Obecnie wzrost połowów ryb morskich uległ zahamowaniu.

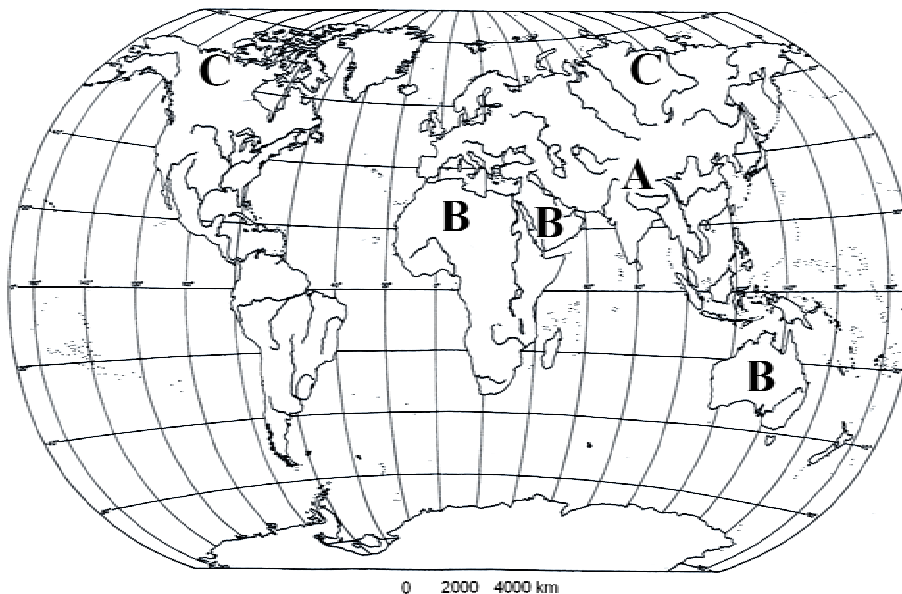
Podaj dwie przyczyny, które wpłynęły na zahamowanie wzrostu połowów morskich na świecie.

1.

2.

Zadanie 22. (1 pkt)

Na mapie świata zaznaczono wybrane obszary o małej gęstości zaludnienia.



Podaj po jednej przyczynie występowania małej gęstości zaludnienia na obszarach oznaczonych na mapie literami: A, B i C.

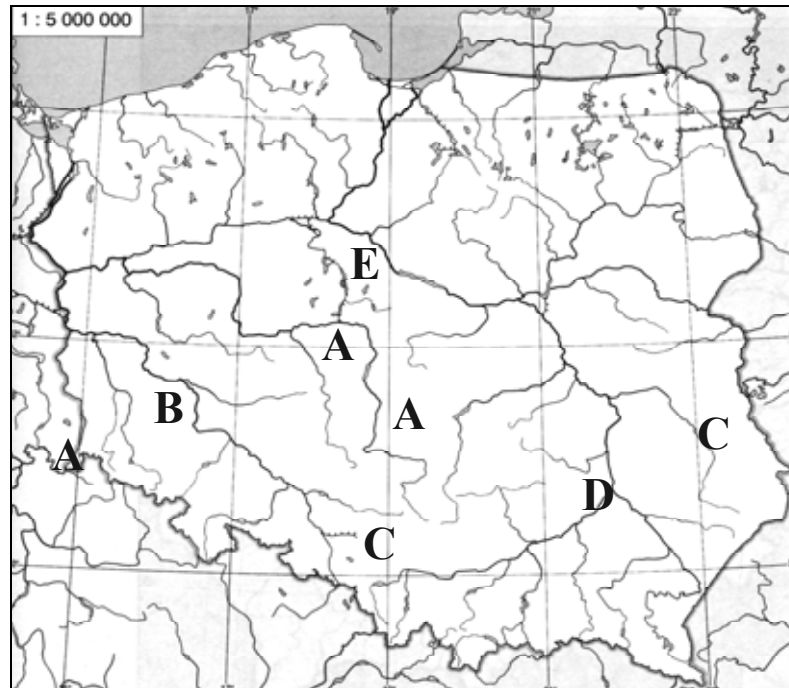
Obszar A

Obszar B

Obszar C

Zadanie 23. (2 pkt)

Na mapie oznaczono literami obszary wydobywania głównych surowców mineralnych Polski.



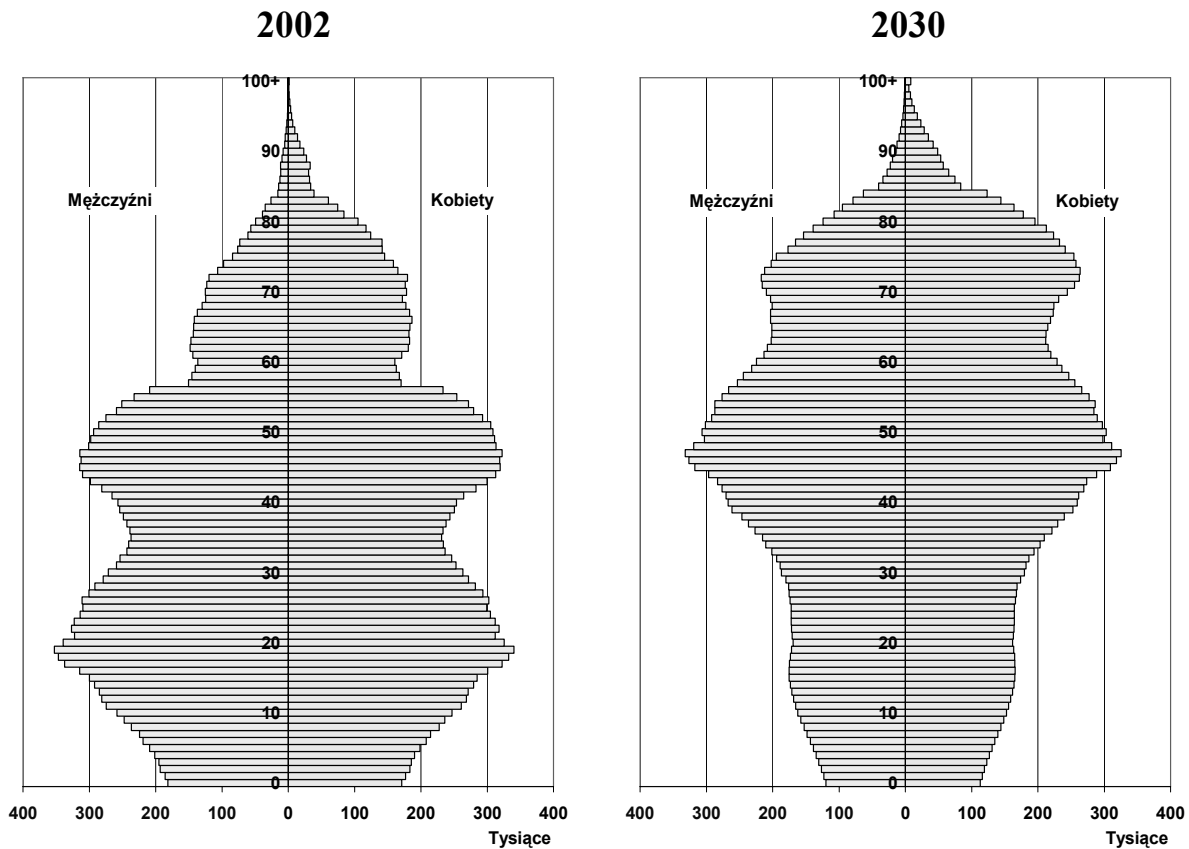
Uzupełnij tabelę, wpisując litery, którymi na mapie oznaczono obszary wydobywania wymienionych surowców mineralnych oraz po jednym miejscu wydobywania każdego z nich.

Miejsca wydobywania: Katowice, Tarnobrzeg, Bełchatów, Inowrocław, Głogów, Turoszów, Bogdanka, Konin

Surowiec mineralny	Oznaczenie literowe na mapie	Przykład miejsca wydobywania
Węgiel kamienny		
Węgiel brunatny		
Sól kamienna		
Rudy miedzi		

Zadanie 24. (2 pkt)

Na wykresach przedstawiono strukturę ludności Polski według płci i wieku w 2002 roku oraz prognozę na 2030 rok.



Na podstawie: <http://ludnosc.w.interia.pl/09.htm>

a) Na podstawie wykresów podaj dwie zmiany, które wystąpią do roku 2030 w strukturze wiekowej ludności Polski.

1.

.....

2.

.....

b) Wymień dwie konsekwencje społeczno-ekonomiczne tych zmian.

1.

.....

2.

.....

Zadanie 25. (2 pkt)

Na świecie, w niedalekiej przyszłości, spodziewany jest wzrost liczby bezrobotnych. Skala tego zjawiska będzie jednak zróżnicowana w zależności od stopnia rozwoju społeczno-gospodarczego państw.

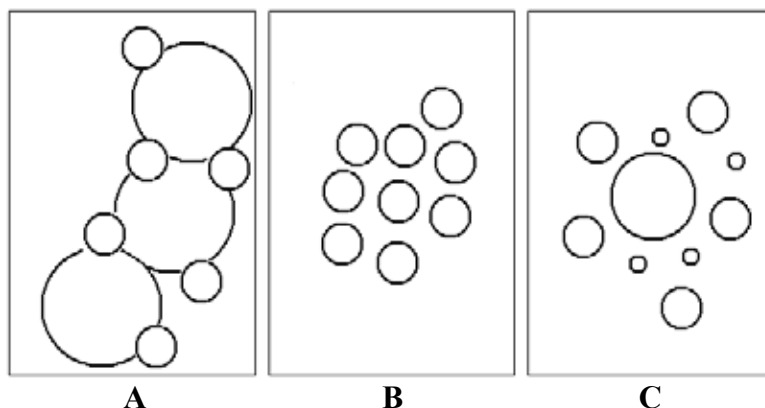
Z podanych przyczyn bezrobocia wybierz po trzy, które w największym stopniu wpływają na jego występowanie w krajach wysoko rozwiniętych i słabo rozwiniętych. Wpisz odpowiednie litery do tabeli.

- A. Niski poziom kwalifikacji ludności.
- B. Przenoszenie firm do krajów o taniej sile roboczej.
- C. Wysoka wydajność pracy.
- D. Duży przyrost naturalny.
- E. Wzrost znaczenia przekazu elektronicznego w komunikacji.
- F. Brak nakładów kapitałowych na nowe inwestycje.

Przyczyny bezrobocia	
w krajach wysoko rozwiniętych	w krajach słabo rozwiniętych

Zadanie 26. (2 pkt)

Na rysunkach A, B, C przedstawiono modele układów osadniczych, w których wielkość kół umownie oznacza wielkość ośrodków miejskich.



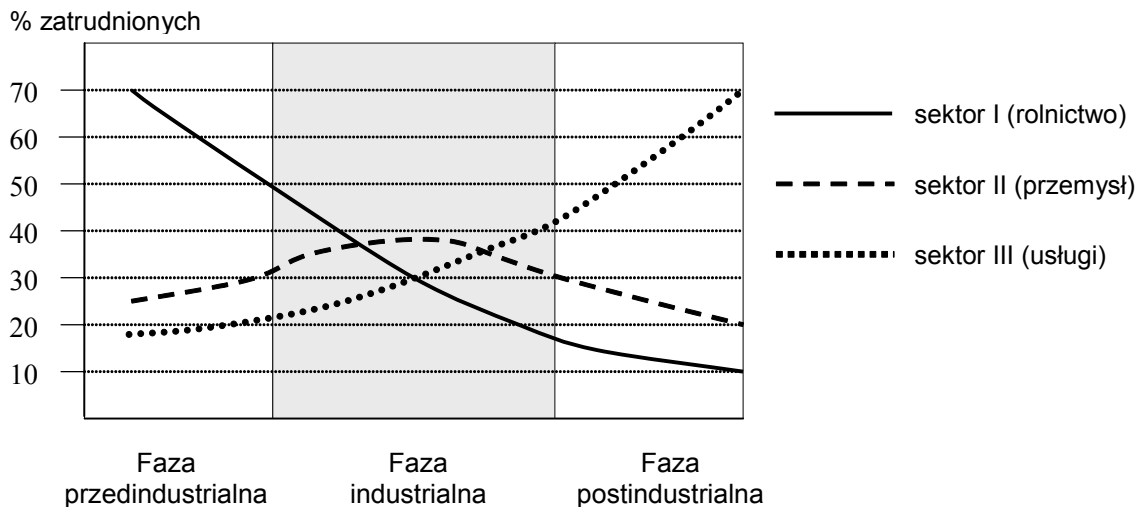
Podaj nazwy przedstawionych typów układów osadniczych. Przyporządkuj każdemu z nich dwa odpowiednie przykłady miast wybrane z podanych.

Łódź, Nowy Orlean, Chorzów, Olsztyn, Boston, Kołobrzeg, Sosnowiec,
Pabianice, Nowy Jork

Model układu osadniczego	Nazwa układu osadniczego	Przykłady miast
A		1. 2.
B		1. 2.
C		1. 2.

Zadanie 27. (2 pkt)

Na wykresie przedstawiono zmiany struktury zatrudnienia według sektorów gospodarki w różnych fazach rozwoju społeczno-gospodarczego.



W tabeli przedstawiono strukturę zatrudnienia według sektorów w Polsce w latach 1992 i 2004.

Sektory gospodarki	1992	2004
I	26,8%	16,1%
II	32,0%	27,3%
III	41,2%	56,6%

Na podstawie wykresu oraz danych z tabeli wykonaj polecenia.

a) Podaj nazwę fazy rozwoju gospodarczego, w której znajdowała się Polska w 2004 roku.

.....

b) Podaj dwie zmiany zachodzące w strukturze zatrudnienia ludności Polski w latach 1992-2004.

1.

2.

Zadanie 28. (1 pkt)


Zgodnie z danymi Światowej Organizacji Turystyki (UNWTO) w latach 1990-2005 największy, trzykrotny, wzrost ruchu turystycznego nastąpił na obszarze Bliskiego Wschodu.

Wybierz z podanych i zaznacz trzy walory turystyczne tego obszaru świata.

- A. Rify koralowe.
- B. Wiecznie zielone lasy równikowe.
- C. Najniżej położone i najbardziej zasolone jezioro na świecie.
- D. Budowle z okresu panowania faraonów.
- E. Trasy narciarskie na lodowcach górskich.
- F. Zabytki architektury hinduskiej.

Zadanie 29. (1 pkt)

Na fotografiach przedstawiono fragmenty dwóch miast.



Miasto:



Miasto:

Na podstawie: *Encyklopedia multimedialna PWN*,
Wrocław-Warszawa 2001

Podpisz fotografie nazwami odpowiednich miast, wybranymi spośród podanych poniżej.

Ateny, Berlin, Moskwa, Paryż, Sofía, Stambuł

Zadanie 30. (1 pkt)

Podaj dwie przyczyny intensywnego rozwoju turystyki na świecie po 1990 roku.

1.

2.

Zadanie 31. (2 pkt)

Wpisz obok każdego zdania literę P, jeśli zdanie jest prawdziwe lub literę F, gdy zdanie jest fałszywe.

W listopadzie 1993 r. wszedł w życie Traktat z Maastricht, na mocy którego utworzono Unię Europejską.

W 2007 roku do Unii Europejskiej przystąpiły: Bułgaria i Turcja.

Od 2007 roku euro, jako waluta, obowiązuje w Słowenii.

Do Unii Europejskiej nie przystąpiły: Norwegia, Islandia i Szwajcaria.

Zadanie 32. (2 pkt)

Wojna w Darfurze objęła pogranicze z Czadem i Republiką Środkowoafrykańską, grożąc wybuchem regionalnego konfliktu.

a) Podaj nazwę kraju, którego częścią jest Darfur.

.....



Na podstawie: *Gazeta Wyborcza*, 16 listopada 2007

b) Wymień dwa społeczne następstwa konfliktu w Darfurze dla ludności tego regionu lub ludności krajów bezpośrednio graniczących z Darfurem.

1.

.....

2.

.....

BRUDNOPIS