



**Wojewódzki Konkurs Przedmiotowy
z Historii
dla uczniów gimnazjów
województwa śląskiego
w roku szkolnym 2010/2011**



KOD UCZNIWA

--	--	--

Etap: szkolny
Data: 15 listopada 2010r.
Czas pracy: 90 minut

Informacje dla ucznia:

1. Na stronie tytułowej arkusza, w wyznaczonym miejscu, wpisz swój kod ustalony przez komisję.
2. Sprawdź, czy arkusz konkursowy zawiera 8 stron i 20 zadań.
3. Czytaj uważnie wszystkie teksty i zadania.
4. Rozwiązania zapisuj długopisem lub piórem. Nie używaj korektora.
5. W zadaniach zamkniętych podane są cztery lub trzy odpowiedzi: A,B,C,D. lub A.B.C. Wybierz tylko jedną odpowiedź i zaznacz zgodnie z poleceniem.
6. Staraj się nie popełniać błędów przy zaznaczaniu odpowiedzi, ale jeśli się pomylisz, błędne zaznaczenie otocz kółkiem **X** i zaznacz inną odpowiedź znakiem **X**.
7. Zadania np. z luką, na dobieranie lub innego typu, wykonuj zgodnie z poleceniem.
8. Rozwiązania zadań otwartych zapisz czytelnie w wyznaczonych miejscach. Pomyłki przekreślaj.

liczba punktów możliwych do uzyskania: 60

liczba punktów umożliwiająca kwalifikację do kolejnego etapu: 48

Wypełnia komisja konkursowa

Nr zadania	1	2	3	4	5	6	7	8	9	10	11	12	13	14	15	16	17	18	19	20	razem
Liczba punktów możliwych do zdobycia	2	3	2	4	1	4	3	4	5	3	5	1	1	4	3	2	3	4	4	2	60
Liczba punktów uzyskana przez uczestnika																					

Podpisy przewodniczącego i członków komisji:

1. Przewodniczący -
2. Członek -
3. Członek -

Zadanie 1 (0-2)

Wśród wymienionych wydarzeń wskaż chronologicznie pierwsze i ostatnie.

Wpisz w tabeli, obok pierwszego wydarzenia literę A, a obok ostatniego literę B.

Powstanie republiki rzymskiej	
Wyprawa Aleksandra Macedońskiego przeciwko Persom	
Wyprowadzenie Żydów z niewoli egipskiej	
Pierwsze igrzyska olimpijskie	

Zadanie 2 (0-3)

Zamieszczone ilustracje przedstawiają budowle starożytne. Wpisz w wykropkowanym miejscu ich nazwy i nazwy cywilizacji, w których powstały.



.....

.....

.....

.....

.....

.....

Zadanie 3 (0-2)

Przeczytaj tekst źródłowy i odpowiedz na pytania.

„(...) Nad całym państwem, znękanym niesnaskami domowymi, po imieniu pierwszego obywatela najwyższą objął władzę(...)»

Kiedy po rozbrojeniu Lepidusa i śmierci Antoniusza (...), złożył tytuł triumwira, chcąc tylko za konsula być uważany i za tego, któremu do obrony praw ludu władza trybuńska wystarcza. Lecz skoro żołnierzy przynęcił darami, lub rozdawnictwem zboża, a wszystkich słodyczą pokoju, powoli zaczął się wzbijać i zagarniać w swe ręce przywileje senatu, urzędników i praw. Nikt mu w tym nie stawiał oporu(...)»

Tacyt, Roczniki I. za T. Maresz, K. Juszczyk, Historia w tekstach źródłowych, t.I, s.32-33

A. Którego władcę opisał Tacyt w cytowanym fragmencie?

.....

B. Jakim terminem określa się zapoczątkowany przez niego ustrój?

.....

Zadanie 4 (0-4)

Przyporządkuj podane dzieła sztuki i zabytki cywilizacjom starożytnym, w których powstały. Wpisz ich nazwy w odpowiednią kolumnę tabeli.

Sfinks, Koloseum, Księga Umarłych, Brama Isztar, Partenon, Eneida, Zikkurat, Iliada, Dyskobol, Świątynia Hatszepsut, Łuk Triumfalny, Kodeks Hammurabiego,

Egipt	Babilonia	Grecja	Rzym

Zadanie 5 (0-1)

Podkreśl właściwy tytuł mapy.



- A. Państwo Franków w IX w.
- B. Imperium Rzymskie II połowie I w. p.n.e.
- C. Imperium Justyniana w II połowie VI w.

Zadanie 6 (0-4)

Przyporządkuj podanym postaciom informacje na ich temat. Wpisz odpowiednią cyfrę w wykropkowanym miejscu.



- A. Juliusz Cezar
- B. Teodozjusz Wielki
- C. Filip II
- D. Salomon

1. Poleciał budowę w Jerozolimie świątyni ku czci boga Jahwe.
2. Wprowadził zakaz kultów pogańskich w Rzymie.
3. Stanął na czele wojsk, które zównały z ziemią Kartaginę.
4. Otrzymał z rąk senatu rzymskiego dożywotnio tytuł dyktatora.
5. Stanął na czele federacji, której utworzenie narzucił państwom greckim.

A-..... B-..... C-..... D-.....

Zadanie 7 (0-3)

Zamieszczone ilustracje przedstawiają święte księgi trzech religii monoteistycznych. Wpisz w wykropkowanych miejscach nazwy tych religii i nazwy świętych ksiąg.



Księga

Religia

Zadanie 8 (0-4)

W podanym tekście znajdują się informacje prawdziwe i fałszywe. Przekreśl fałszywe.

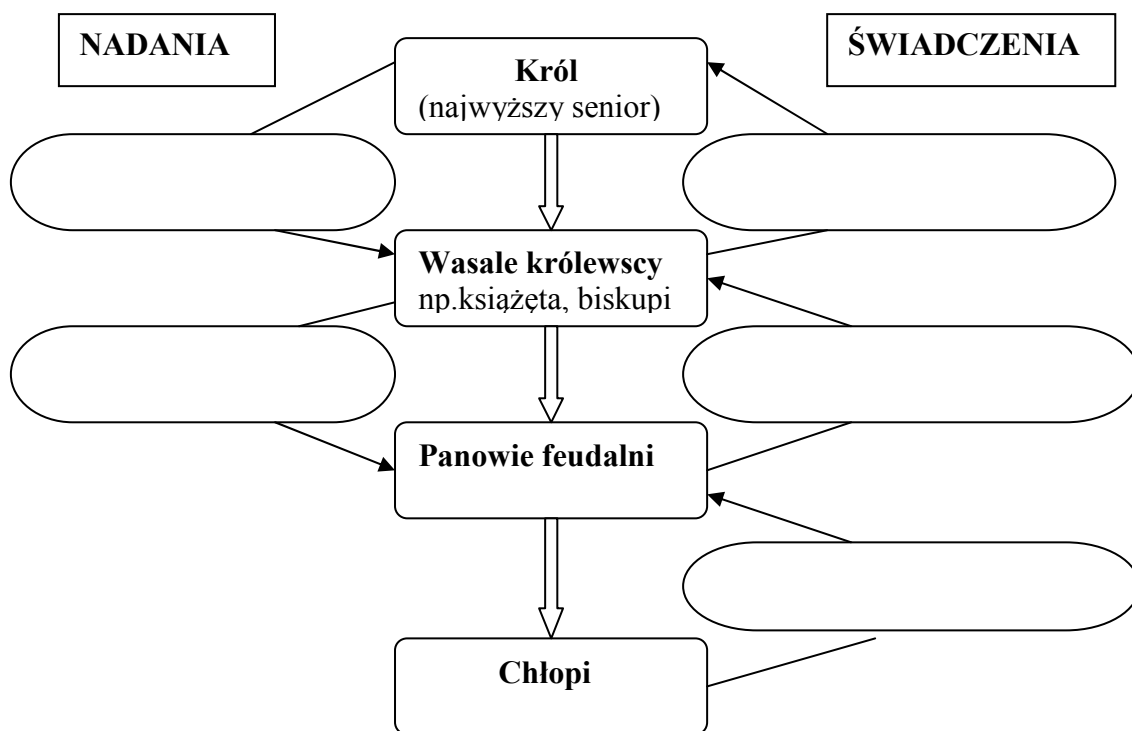
W 1093/1095 r., na synodzie w Clermont/Nicei, papież Urban II/ Kalikst III, wezwał chrześcijan do zorganizowania wypraw krzyżowych. Ich celem było odzyskanie dostępu do miejsc świętych, zagarniętych przez protestantów/muzułmanów. Wyprawy te były organizowane w okresie XI-XIIw./XI-XIIIw. Ostatecznie, w wyniku kolejnych wypraw chrześcijanie odzyskali/ nie odzyskali Jerozolimę/y. Ich skutkiem było także m.in. wzmocnienie/osłabienie autorytetu papieża oraz zubożenie/ bogacenie się miast włoskich.

Zadanie 9 (0-5 pkt)

Uzupełnij schemat społeczeństwa feudalnego. Wpisz we właściwym miejscu następujące terminy:

lenno, przysięga wierności, renta feudalna, opieka, służba wojskowa, immunitet, urząd

Uwaga: Terminy mogą się powtarzać.



Zadanie 10 (0-3)

Połącz w pary wydarzenie i jego skutek. Wpisz właściwą cyfrę w tabeli.

Wydarzenie	Skutek
Wydanie Wielkiej Karty Swobód	
Wydanie „Dictatus papae”	
Traktat w Verdun	

1. Powstanie Stanów Generalnych
2. Powstanie Niemiec i Francji
3. Powstanie parlamentu w Anglii
4. Spór o władzę nad chrześcijaństwem

Zadanie 11 (0-5)

Przeczytaj zamieszczony fragment tekstu źródłowego i wykonaj polecenia.

„(...) Gdy poczuł, że los żąda już od niego śmiertelnej powinności, poleca spisać dokumenty testamentowe. Przekazuje w nich w spadku czterem synom i to co osiągnięte zasługami przodków i następstwo w królestwie, wyznaczając stałe granice czterech dzielnic w ten sposób, że w rękach najstarszego miało pozostać i księstwo dzielnicy krakowskiej, i władza zwierzchnia. A jeśliby spotkało go to, co ludzkie, zawsze starszeństwo i wzgląd pierworództwa miały rozstrzygać spór o następstwo.(...)”

W. Kadłubek, Kronika polska za: T.Maresz, K. Juszczyk, Historia w tekstach źródłowych, T.1, s.101

A. Wpisz imię i przydomek władcy opisanego w tekście.

.....

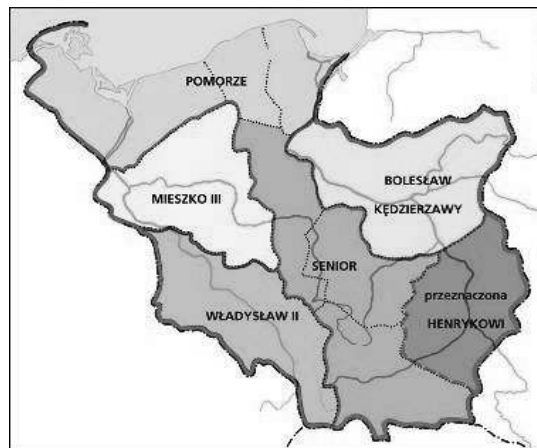
B. Podaj datę śmierci w/w władcy, czyli rok wejścia w życie testamentu.

.....

C. Wyjaśnij, kto miał zgodnie z testamentem, obejmować każdorazowo władzę seniora.

.....

D. Korzystając z zamieszczonej mapy wpisz dzielnice, które otrzymali synowie władcy.



Książę	Nazwa dzielnicy
Władysław II	
Bolesław Kędzierzawy	
Mieszko III	
Henryk	

Zadanie 12 (0-1)

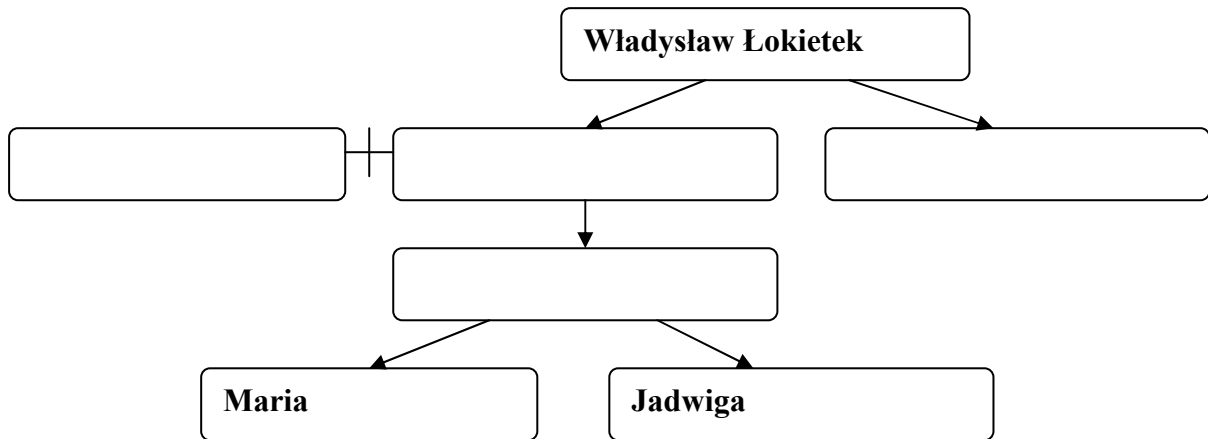
Uporządkuj chronologicznie podane wydarzenia. Wpisz kolejne cyfry od 1 do 4 w wykropkowane miejsca.

- A. Spór Bolesława z biskupem Stanisławem.....
- B. Koronacja królewska Mieszka II.....
- C. Misja chrystianizacyjna Biskupa Wojciecha.....
- D. Panowanie Przemysła II.....

Zadanie 13 (0-1)

Uzupełnij fragment drzewa genealogicznego ostatnich Piastów poprawnie wpisując podane postaci:

Kazimierz Wielki, Ludwik Węgierski, Karol Robert Andegaweński, Elżbieta



Zadanie 14 (0-4)

Przeczytaj fragmenty tekstów źródłowych. Wpisz w wykropkowanych miejscach wydarzenia, których dotyczą.

„(...)W imię świętej i niepodzielnej Trójcy. Ja, Konrad(...)podaję do wiadomości, że z uwagi na nagrodę niebieską i zbawienie duszy mojej(...) nadałem Marii św. i braciom Zakonu całe terytorium chełmińskie niepodzielnie, ze wszystkimi przynależnościami(...)”

Ostopowicz, S. Suchodolski, D. Szymikowski, Od Hammurabiego do Fukuyamy, t.1, s.77

.....

„(...)Oto rankiem, po gwałtownej burzy, 60 000 akindzijów, arabów i sipajów ruszyło na około 20 000 chrześcijan. Janos Hunyady w nieustępliwej walce zdołał rozbić lewe skrzydło.(...) Zwycięstwo było bliskie, sultan Murad II gotówł się do ucieczki, osłaniany przez kilkutyśięczny czworobok janczarów.(...)”

J. Besala, Tajemnice historii Polski,s. 97

.....

„(...)Książęta spotkali się po to, by uzgodnić sposób obrony Laskonogiego przed jego zajadłym bratankiem. Chcieli rozbić sojusz Odonica ze Świętopelkiem i doprowadzić do zhołdowania Pomorza,(...) dlatego też zaprosili Świętopelka na zjazd.(...)”

J. Besala, Tajemnice historii Polski, s.25-26

.....

„(...) Jeden spomiędzy statków przybył do portu w Marsylii, a za jego przybyciem zmarło zaraz bardzo wielu ludzi, którzy się nie strzegli(...). Wypędzony z Marsylii, popłynął wraz z innymi dalej, a wszystkie po całej drodze zostawiały za sobą tą straszną zarazę(...)”

M. Sobańska-Bondaruk, S.B. Leonard, Wiek X-XV w źródłach, s. 248

.....

Zadanie 15 (0-3)

Zakwalifikuj podane zdania jako prawdę lub fałsz. Wpisz, w wykropkowanym miejscu, odpowiednio: *Prawda* lub *Falsz*

- A. Skutkiem zawarcia pokoju w Kaliszu było odzyskanie Pomorza Gdańskiego.....
- B. Władysław Jagiełło zagwarantował szlachcie nietykalność osobistą i majątkową.....
- C. Jedną z przyczyn wielkiej wojny z Zakonem było powstanie antykrzyżackie na Żmudzi...

Zadanie 16 (0-2)

Przeczytaj fragment tekstu źródłowego i odpowiedz na pytania.

„To są postanowienia i statuty, których mają się trzymać igielnicy, druciarze, guzikarze, odlewnicy cyny i różańcarze. Po pierwsze nikt nie ma rzemiosła wykonywać, kto by nie uzyskał prawa miejskiego i nie przyniósł dokumentu na wykonywanie swego zawodu. Raz na kwartał ma każdy dawać jeden grosz do kasy(...)”

M. Sobanska-Bondaruk, S.B. Leonard, Wiek X-XV w źródłach, s.237

A. Jak nazywa się organizacja, której Statut zacytowano?



.....

B. Do którego stanu społecznego należeli jej członkowie?

.....

Zadanie 17 (0-3)

Przyjrzyj się zamieszczonym ilustracjom i wykonaj polecenia.



A. Nazwij przedstawiony styl architektoniczny.

.....

B. Podaj 2 cechy tego stylu widoczne na ilustracji:

1.....

2.....

Zadanie 18 (0-4)

Przeczytaj tekst źródłowy i wykonaj polecenia.

„(...)chcemy zadowolić się tym, aby (...)płacono po dwa grosze(...) z każdego łana.
(...)Jeśli podczas panowania naszego potrzeba będzie wyruszać na wyprawę poza granice
Królestwa(...) i jeśli niektórzy spośród szlachty będą do niewoli wzięci i poniosą większe lub
mniejsze szkody w rzeczach lub osobach, wtedy im wypłacimy całkowite odszkodowanie.(...)”

M. Sobańska-Bondaruk, S.B. Leonard, Wiek X-XV w źródłach. S.185-186

A. Podaj datę i miejsce wydania tego przywileju.

Data:.....Miejsce:.....

B. Podaj władcę i główną przyczynę wydania przywileju.

Władca:.....

Przyczyna:.....

Zadanie 19 (0-4)

Dopisz królów polskich, za których panowania miały miejsce wymienione wydarzenia.

Wydarzenie	Król polski
Pierwsza wojna z Zakonem Krzyżackim	
Układ w Krewie	
Pokój w Budziszynie	
Spór o inwestyturę Grzegorza VII z Henrykiem IV	

Zadanie 20 (0-2)

Przyjrzyj się zamieszczonej mapie i wykonaj polecenia.



A. Podkreśl właściwy tytuł mapy.

1. Państwo polskie za Władysława Łokietka
2. Państwo polskie za Bolesława Chrobrego
3. Państwo polskie za Kazimierza Wielkiego

B. Podaj jeden argument potwierdzający Twój wybór.

.....